

Antwoordenboek

7 MAART 2026



Teamnummer:

Inlevertijd (door organisatie in te vullen):

Teamnaam:

Captain:

Als we een geldprijs winnen schenken we die aan dit goede doel:

Wij zetten de **joker** in voor categorie: (omcirkelen) + Joker op juiste plek vastnieten
3 - 4 - 5 - 6 - 7 - 8 - 9

We hebben een coupon voor extra punten vastgeniet aan de voorpagina JA/NEE

Stappenteller (invullen door organisatie):



Onze Dorpskwis



voor Dronten - Swifterbant - Biddinghuizen

De namen van de deelnemers van ons team:



1

(teamcaptain)

2

3

4

5

6

7

8

9

10


11

12

13

14

15



Beste deelnemers,

Hierbij ontvangen jullie het antwoordenboek van Onze Dorpskwis 2026. We hopen dat jullie, net als wij, terugkijken op een gezellige, fanatieke en geslaagde editie. Mooi om te zien hoeveel enthousiasme, creativiteit en inzet er ook dit jaar weer in de Kwis is gestoken!

Dit jaar hebben we ervoor gekozen om de Kwisboeken weer aan jullie terug te geven, zodat jullie alles nog eens rustig kunnen nalezen en herbeleven.

Hoewel dit antwoordenboek met de grootst mogelijke zorg is samengesteld, kan het voorkomen dat er onvolkomenheden of (reken)fouten in de beoordeling of uitwerking zijn geslopen. De door de jury vastgestelde scores en uitslagen zijn echter definitief en worden niet meer aangepast. Over de inhoud van dit antwoordenboek en de puntentoekening kan niet worden gecorrespondeerd.

We vragen hiervoor jullie begrip en hopen dat iedereen vooral met veel plezier terugkijkt op deze Dorpskwis. Graag zien we jullie volgend jaar weer terug aan de start!

Namens de organisatie: bedankt voor jullie deelname en enthousiasme!

De organisatie van Onze Dorpskwis



Sponsors en andere vrienden

Onze Dorpskwis zou niet mogelijk zijn zonder de bijdragen die onze **sponsors en vrienden** leveren. Veel dank aan iedereen die zijn of haar steentje bijgedragen heeft aan het mogelijk maken van Onze Dorpskwis 2026!




 <p>HEYBOER BV POWERED BY FARMPLUS</p>	 <p>ALL-IN-INSTALLATIE BV</p>
 <p>SRT REPARATIE ONDERHOUD</p> 	 <p>WEEVERS mechanisatiebedrijf</p>
 <p>BSO opvang "De Killick"</p>	 <p>Ahke de Boer Lijfstijlstudio</p>
 <p>BIRON Grow solutions <small>DE WOLFS - NIJHOFH Dronthe - www.biron.nl</small></p>	 <p>Moellies Proef de Aandacht</p>
 <p>studiotof! ontwerp & communicatie</p>	 <p>HEDIBOUW biddinghuizen tel. 0321-33 16 49 www.hedibouw.nl</p>
 <p>Chinees Cantonees Restaurant Hai Yan Palace 海燕酒樓</p>	 <p>HEMA</p>





			
 KLAMER FIETSEN		MULTICOPY THE COMMUNICATION COMPANY Het Spaarne 47 8253 PE Dronten Tel. 0321 - 38 66 44 Fax 0321 - 38 66 55	
	 	BOCCA	
ZUYVER JUWELIERS		BIJ CHRIS KLEDINGBOETIEK	
			
			
			
<p>Volgend jaar ook hier vermeld staan als sponsor of vriend? www.onzedorpskwis.nl/sponsoring</p>			



Overzicht

Sponsors en andere vrienden 4

Overzicht..... 4

Opdrachten op locatie 10

Categorie 1A: Spontane vragen 10

Categorie 1B: Sponsor Vragen..... 15

Categorie 2: Doe-opdrachten..... 20

Categorie 3: Rondje Dorpen..... 33

Categorie 4: Denkwerk en Puzzelen 49

Categorie 5: Te Land, ter Zee en in de Lucht 63

Categorie 6: Geschiedenis 76

Categorie 7: Glitter & Glamour 86

Categorie 8: Beroepen en Ambachten.....103

Categorie 9: Topografie.....116

Categorie 10: Voor de Kinderen133



Hier is ruimte voor jullie opmerkingen, tips en ideeën voor de organisatie over deze editie, én wensen voor een volgende editie.

Voor een volgende editie kan de organisatie uitbreiding goed gebruiken. We zijn vooral op zoek naar mensen die ondersteunende taken willen oppakken — en daarbij gewoon aan de kwis kunnen blijven meedoen.

Lijkt dit je leuk? Noteer dan hier je naam en telefoonnummer, dan nemen wij contact met je op.

Ken je iemand anders die dit misschien ook leuk vindt? Laat het ons weten. Aanmelden kan ook via het contactformulier op www.onzedorpskwis.nl.



Opdrachten op locatie
Niet voor de deelnemers van de Kleine Kwis!!!

Voor opdrachten 17 en 18 (zie categorie *Doe-opdrachten*) moet er vóór 20:00 uur per opdracht één teamgenoot bij de aangegeven locatie zijn. Zorg dat je op tijd bent. Beide opdrachten duren ongeveer 45 minuten. Voor meer informatie over de opdrachten verwijzen we je naar de betreffende opdrachten in het boek.

Categorie 1A: Spontane vragen
Vraag 1: Instructiemiddag


Tijdens de instructiemiddag hadden we het restaurant van De Meerpaal gezellig ingericht. De organisatie heeft deze middag uitleg gegeven over de Kwis. Daarnaast hebben jullie ook een envelop gekregen met daarin een aantal opdrachten.

Op 15 februari 2026 hebben jullie ook weer (geprobeerd) alles vast te leggen: fotograferen, filmen én luisteren tegelijk... geen makkelijke taak 😊.

Uiteraard stellen we jullie nog een paar vragen over deze middag. Eens kijken of jullie écht goed hebben opgelet!

A	Tussen al die gekleurde vlaggen zat een dubbelganger. Welke vlag was dat?	De Schotse vlag / Schotland / Blauw met wit kruis
B	Welk lid van de Denktank had een pleister op?	Doeke

C	Lisette benoemde 3 straten. Welke 3 straten noemde ze op en wat hebben deze straten met elkaar gemeen?
	Irisstraat – De Repel – Keplerlaan in deze straten staat een Liquidambar Styraciflua of Amberboom (Onderdeel van de Bomenroute)



D Tijdens de algemene uitleg van de instructiemiddag is er veel verteld. Maar is het je ook opgevallen dat er tussendoor opvallend herkenbare zinnen werden gebruikt? In de uitleg zijn **10** songteksten verwerkt **Tip:** De artiesten waren ook zichtbaar in de zaal. Welke songteksten zijn gebruikt? Noem per song de titel en de artiest/ band.

1. Acda en de Munnik – Als het vuur gedooft is
 2. Gerard Joling – Maak me gek
 3. The Amazing Stroopwafels – Oude Maasweg
 4. Boudewijn de Groot – Verdronken vlinder
 5. Britney Spears – Oops!... I did it again
 6. Mieke Telkamp – Waarheen, waarvoor
 7. Vader Abraham – In 't kleine café aan de haven
 8. Queen – The show must go on
 9. Tina Turner (origineel van Bonnie Tyler) – The best
 10. Simon and Garfunkel – The sound of silence
- (let op; gecoverd door veel artiesten waaronder Cyril, Disturbed, etc)


Vraag 2: Openingsopdracht kinderen

Jullie hebben 3 weken de tijd gehad om een mooi stokpaard te maken. Maak hiervan 2 foto's. Zorg dat op elke foto jullie teamnummer en Onze Dorpskwis-flyer is te zien. Creativiteit wordt natuurlijk weer beloond! Zet deze 2 foto's in een word-document. In de titel graag de opdracht en teamnaam.

Lever het document voor 23:00 uur in via Google Drive.

CHECK JEZELF: Bestand geplaatst in Google Drive?

JA / NEE




Vraag 3: Openingsopdracht Stickerboek

Jullie hebben op de instructiemiddag een boekje gekregen waarin foto's verzameld kunnen worden. Het was aan jullie de opdracht om onze foto's te verzamelen om het boekje compleet te krijgen. Plak de foto's in de bijbehorende vakjes in het boekje. Lever het boekje samen met kwisboek eind van de avond in.

A	Hoeveel foto's hebben jullie weer compleet gekregen?

Vraag 4: Geheime Opdracht

Een van jullie teamgenoten heeft vanmiddag al deelgenomen aan onze geheime opdracht en een mooie busreis door onze gemeente gemaakt. We hopen dat jullie goed hebben opgelet en alle vragen hebben kunnen beantwoorden!




Vraag 4: Geheime Opdracht

Teamnaam:	
-----------	--

Jullie gaan een busrit maken door onze mooie gemeente. Tijdens deze busreis worden verschillende vragen gesteld, dus let goed op! Zet hieronder de antwoorden op de vragen.

Dit blad moet aan het einde van de busrit weer bij de organisatie worden ingeleverd.


1	1. In welk jaar werd dit stuk spoor officieel in gebruik genomen? Noteer het juiste jaartal op regel 1 én in vakje nr. 1 2012
2	2. Voor u ziet u inmiddels de windmolens van Windplan Blauw. Noteer op regel 2 én in vakje 2 wat de maximale tiphoogte van deze molens is (in mtrs) 249
3	3. Voor welke specifieke doelgroep is dit congrescentrum bedoeld? Schrijf de volledige naam op regel 3 en de eerste letter in vakje 3. Jehova('s) of Jehova's getuigen
4	4. Wat is de naam van dit kunstwerk bij Swifterbant ? Noteer de volledige naam op regel 4 en noteer de laatste letter in vakje 4 De Tweeling
5	5. Welke vaart passeren we nu op de Tarpanweg? Noteer de volledige naam bij antwoord 5 en schrijf de eerste letter op in vakje 5. Swiftervaart
6	6. Welk van de figuren van Wachters op de Dijk stond in het midden? Noteer het antwoord op regel 6 en de eerste letter van het figuur in vakje 6 Cirkel
7	7. Om welk soort kampioenschap heeft dit monument betrekking? Een NK een EK of een WK? Noteer het antwoord op regel 7 en de eerste letter van uw antwoord i vakje 7. WK
8	8. Weet u welke provincie hier links van het Veluwemeer ligt? Noteer de provincienaam op regel 8 en de eerste letter in vakje 8. Gelderland
9	9. Wat is de eerste deel van de naam van dit kunstobject naast de Spijkweg? Schrijf deze naam op regel x en de eerste letter in vakje 9. Riff



I0	10. Wat was het centrale thema van de Flevohof eigenlijk? Noteer het thema op regel 10 en de eerste letter van het thema in vakje 10. Landbouw
I1	11. Wat is de naam van deze nieuwe woonwijk van Biddinghuizen? Schrijf de volledige naam op regel 11 en de laatste letter van de naam in vakje 11 De Graafschap
I2	12. Wat is de naam van dit kunstwerk in Biddinghuizen? Noteer dit op regel 12 en zet de 1 ^e letter van het 2 ^e woord in vakje 12. Het Vlakke Land
I3	13. Wat is de naam van het hulpmiddel? Noteer het antwoord op regel 13 en de laatste letter van de naam van het hulpmiddel in vakje 13. Meetstoel
I4	14. U heeft ondertussen natuurlijk goed bijgehouden hoeveel scheepswrak bakens er langs de route stonden. Noteer het juiste aantal op regel 14 en in vakje 14. 6 scheepswrak-bakens (en 4 vliegtuigcrash-bakens maar daar vroegen we niet naar)
I5	15. Noteer tot slot de afgelegde afstand op regel 15 en in vakje 15. U mag het getal afronden op 1 cijfer na de komma. 67,8


Vul hieronder het eindantwoord in

I	2	3	4	5	6	7	8	9	I0
2012	249	J	G	S	C	W	G	R	L
I1	I2	I3	I4	I5					
P	V	L	6	67,8					



Categorie 1B: Sponsor Vragen


Vraag 5: KEJE



KEJE
DRONTEN

A Hoeveel producten op maat heeft Keje Dronnten in 2025 gemaakt? Omcirkel het juiste antwoord.

- A. 200.000
- B. 250.000
- C. 300.000
- D. 350.000 (juiste antwoord)



Vraag 6: WOUDA

WOUDA

installatietechniek

A Wat klopt er niet aan ons adres?

Bedrijventerrein de Poort heeft straten met namen van oude stadspoorten. Er bestaat echter geen Koornmarktpoort in Nederland. Kampen kent wel een Koornmarktspoort. Er ontbreekt dus een S in de straatnaam.

Vraag 7: All-in-installaties

A Wie ontwierp het oude Scharrelberg gebouw, zoals deze die er nu nog staat?



Jaco Schaap of er is niet een eenduidige ontwerper.



Vraag 8: SRT / Studio Tof

A Waar staat SRT voor?




Stoker Reparatie Team

B Wie was de bedenker van de straatnaam De Greente in Swifterbant en kreeg daarvoor de eerste prijs van de straatnamenprijsvraag in 1962?



Aalt Selles

Bron: Boek Zichtbord tot Bloemenzoom – Vijftig keer Swifterbant op pagina 78



Vraag 9: BSO opvang De Killick / Camping 't Wisentbos

A Via welke organisatie moet een gastouder in Nederland officieel werken? Omcirkel het juiste antwoord.



- A. Gemeente Dronten
- B. Gastouderbureau (juiste antwoord)**
- C. Belastingdienst
- D. GGD

B Wat kost een overnachting voor 2 personen uit Hengelo (OV) met een camper die ook gebruik maakt van de stroom bij Camping de Wisent.



€ 25,98



Vraag 10: De makelaars van 5VOOR12



Vanavond verschijnt op het scherm bij het makelaarskantoor van 5VOOR12 een vraag van deze sponsor. Noteer hieronder zowel de vraag als het antwoord.

Vraag:	Welke straat (geen dreef) in De Gilden, Dronten-West, heeft geen huisnummers?
Antwoord:	Grazende Kalfjes of Dagge




Categorie 2: Doe-opdrachten

Vraag 11: Binnen opdracht - Stappenteller

Tijdens het ophalen van de map, heb je ook een “stappenteller” gekregen. Wie kan de meeste “stappen” zetten over de hele avond. Elke druk is 1 stap. De stappenteller moet samen met de map aan het eind van de avond weer bij de organisatie worden ingeleverd. Zet in het vak hoeveel “stappen” jullie team heeft gezet.



A	Aantal “stappen” gezet:	
----------	-------------------------	--



Vraag 12: Binnen opdracht - Voorwerpen verzamelen

Hebben jullie de volgende voorwerpen nog in huis?


Hieronder staat een lijst met 10 voorwerpen. Kies 5 voorwerpen uit en maak van elk voorwerp één aparte foto. Zorg dat op elke foto jullie teamnummer en Onze Dorpskwis-flyer is te zien. Creativiteit wordt natuurlijk weer beloond!

Vink aan welke 5 voorwerpen jullie op de foto hebben gezet. Zet alle foto's in één Word-bestand. Lever dit bestand voor 23:00 uur in via Google Drive.

Neem een foto van:	
Schoenleest	<input type="checkbox"/>
Cassettebandje	<input type="checkbox"/>
Telefoon met draaischijf	<input type="checkbox"/>
Diaraam	<input type="checkbox"/>
Mattenklopper	<input type="checkbox"/>
Floppy	<input type="checkbox"/>
Krulspelden	<input type="checkbox"/>
Wasbord	<input type="checkbox"/>
Kroontjespen	<input type="checkbox"/>
Koffiemolen	<input type="checkbox"/>

CHECK JEZELF: Bestand geplaatst in Google Drive?

JA / NEE



Vraag 13: Buiten/ Binnen opdracht – Woordencombinatie

Jullie hebben in de tas een vierkant bordje met het logo van Onze Dorpskwis met op de achterkant een zelfstandig naamwoord kunnen vinden. Alle teams hebben hetzelfde woord gekregen.

Uitvoering

Ga opzoek naar een voorwerp in- en rondom het huis, waarmee je met het woord van het bordje een nieuw samengesteld woord kan maken. Maak een foto van het combinatiewoord en stuur in één Word-bestand de foto's en upload deze voor 23:00 uur in Google Drive. Alleen woorden die in de Dikke van Dale zijn opgenomen tellen. Maak minimaal 5 woorden! Vermeld ook de woorden in onderstaande ruimte.

Als voorbeeld:




Poppenhuis



Huisnummer

A	Noteer de gevonden woorden.

CHECK JEZELF: bestand geplaatst in Google Drive?	JA / NEE
--	----------



Vraag 14: Binnen opdracht – Modeshow



In de kindercategorie mochten de kinderen hun eigen modeshow lopen. Dat vonden we zó leuk, dat we het niet alleen aan de kinderen willen overlaten... Daarom mogen dit jaar **ook de volwassenen** schitteren op de catwalk!

 **Opdracht:**

Maak een sprankelend filmpje van jullie modeshow en lever het in via Google Drive voor 23:00 uur.


 **Waar moet jullie show aan voldoen?**

- Minimaal **3 verschillende modellen**
- Minimaal **1 fantastische Drag Queen**
- **Thema:** Glitter & Glamour
- Een echte **catwalk** én passende **muziek**

 Het filmpje duurt maximaal **60 seconden**, dus ga voor kort, krachtig en spectaculair!

CHECK JEZELF: Bestand geplaatst in Google Drive?

JA / NEE



Vraag 15: Binnen opdracht – Knuffeldoekje

Dit jaar heeft zich een **kleine Kwikkie** bij ons aangesloten, en bij kleintjes horen natuurlijk cadeautjes! Daarom is het jullie creatieve opdracht om voor de kleine Kwikkie een **knuffeldoekje in de vorm van een kikker** te maken.

 **Wat lever je aan?**

- Maak een **foto** van het maken van het knuffeldoekje waarop **het teamnummer** én een **Onze Dorpskwis-flyer** duidelijk zichtbaar zijn.
- Lever deze foto voor 23:00 uur in via jullie **Google Drive**.

 **En het knuffeldoekje zelf?**

- Dat mogen jullie **inleveren via de tas**.




CHECK JEZELF: foto geplaatst in Google Drive?

JA / NEE



EINDE CATEGORIE KLEINE KWIS DEELNEMERS



Vraag 16: Opdracht Stilleven

In de envelop die jullie na de inschrijving thuis hebben ontvangen, zitten verschillende voorwerpen. Met deze voorwerpen gaan jullie aan de slag!

🌟 **De uitdaging:**

Creëer een stilleven waarin alle voorwerpen uit de envelop duidelijk zichtbaar zijn. Jullie mogen dit aanvullen met alles wat jullie zelf maar kunnen bedenken. Hoe creatiever, hoe beter!

📷 **Wat moet je inleveren?**

- **Eén duidelijke foto** van het stilleven
- Zorg ervoor dat het **teamnummer en Onze Dorpskwis-flyer goed zichtbaar** zijn op de foto

CHECK JEZELF: foto geplaatst in Google Drive?

JA / NEE



Vraag 17: Buiten opdracht – Hobbyhorse deel 2

Iedereen heeft het wel gezien dat afgelopen jaren een nieuwe hobby is ontstaan. Hobby horse is de nieuwe hobby en dat is wat wij vandaag ook gaan doen. De kinderen hebben afgelopen weken hard gewerkt aan een hobby horse. Eén teamlid neemt deze hobby horse mee naar Van de Heijkant, Kokkelweg 12 in Biddinghuizen. Om 20:00 uur start de opdracht. Zorg ook dat je gepaste (paardrij)kleding aan hebt!

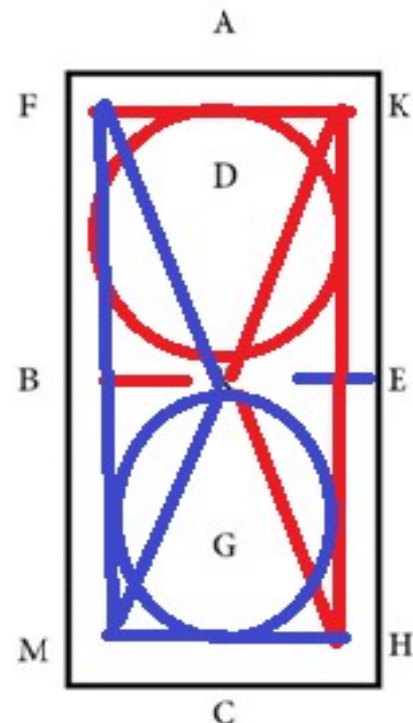
Op deze locatie ga je met je hobby horse een parcours afleggen. Op de avond zelf zal worden aangegeven of je het rode of blauwe parcours gaat volgen.

Ben je ROOD dan volg je het rode parcours.

1. Je begint bij F.
2. In **stap** ga je van F naar K
3. Van K ga je in **galop** naar H met een sprong bij E
4. Dan met gebroken lijn in **draf** van H - X - K
5. Van K doe je een volte tussen A - X

Ben je BLAUW dan volg je het blauwe parcours

1. Je begint bij H.
2. In **stap** ga je van H naar M.
3. Van M ga je in **galop** naar F met een sprong bij B
4. Dan met gebroken lijn in **draf** van F - X - M
5. Van M doe je een volte tussen C - X



Tijdens het parcours mag je dit blad meenemen als extra hulpmiddel.

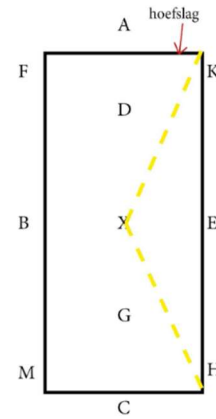
Op de volgende pagina staat een uitleg over wat, Stap, Galop en Draf is.



Extra uitleg:

Gebroken lijn

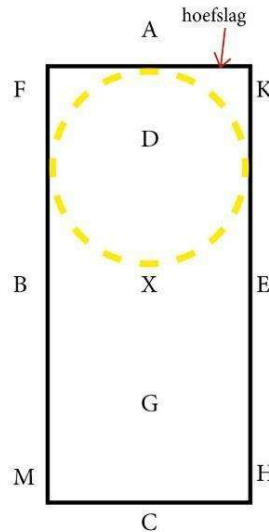
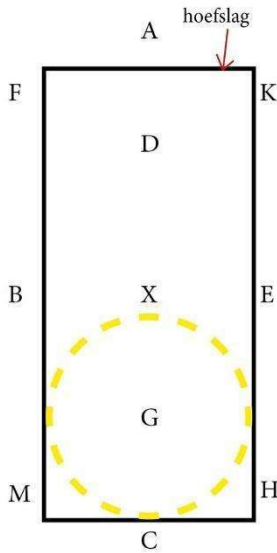
Bij een gebroken lijn loop je een driehoek! Op het voorbeeld is het: van K – X – H, maar kan ook van F -X - M zijn.



Volte

Een volte is een ander woord voor een rondje of een cirkel.

Je kunt deze op verschillende plekken in de bak maken. Een volte tussen de C en X of een volte tussen de B en de E of een volte tussen de A en de X.



Uitleg stap:

Scan me



Uitleg galop:

Scan me



Uitleg draf:

Scan me



Vraag 18: Buiten opdracht – De Alleskunner

De alleskunner, een van de vele hilarische tv-programma's die ons landje rijk is. En vanavond tijdens Onze Dorpskwis mogen jullie laten zien ook 'een alleskunner' te zijn. Geen 100 opdrachten zoals op de televisie, maar wel een aantal ontzettend grappige opdrachten.

Eén teamlid gaat deze uitdaging aan. Zorg ervoor om voor 20:00 uur aanwezig te zijn in de Meerpaal, in de gele zaal. De opdracht duurt ongeveer 45 minuten, iedereen blijft aanwezig om elkaar aan te moedigen en soms te jureren.

Het teamlid neemt de volgende spullen mee:

- 5 dobbelstenen
- 1 stock speelkaarten
- Boodschappentas (formaat 40x45)
- Lepel




Vraag 19: Binnen opdracht – Proef de pepernoten



Ook al is het nu meer tijd van de paaseieren, de denktank houdt zoveel meer van pepernoten. De tijd van de lange avonden, de gezellige dagen met elkaar.

A In de kwistas heb je een zakje met pepernoten in verschillende smaken kunnen vinden. Welke smaken zijn dat?

- A. Pistache
- B. Cappuccino
- C. Truffel
- D. Banoffeesmaak
- E. Chocoladetaart




Vraag 20: Buiten opdracht – rondje door Swifterbant

Tijdens een wandeling van Kwikkie met zijn baby door Swifterbant heeft Kwikkie diverse foto's gemaakt. Nu vindt hij het enorm leuk als jullie deze foto's ook gaan maken van jezelf of van een teamgenoot, uiteraard met het petje dat wij jullie hebben gegeven. Ook het teamnummer moet duidelijk zichtbaar zijn. Het kan wat donker zijn, dus neem een lampje mee! De foto's in een Word-bestand aanleveren voor 23:00 uur via Google Drive. Helaas weet Kwikkie niet meer waar hij allemaal heeft gelopen. Maar dat weten jullie vast wel!


De foto's die Kwikkie heeft gemaakt zijn:



Kruidentuin Swifterbant



Dolomiet, ter hoogte van nr 11 / 13






Stichting de Bambihof



Evenemententerrein Swifterbos






De Greente

CHECK JEZELF: Word-bestand geplaatst in Google Drive?

JA / NEE




Categorie 3: Rondje Dorpen

Vraag 21: Over Bruggen

Bruggen genoeg in de gemeente Dronten. Beantwoord de volgende vragen.

<p>A</p>	<p>Hoe heet deze brug?</p> 	<p>Brug 8</p>
<p>B</p>	<p>Wat is het bijzondere aan deze brug?</p> 	<p>De <u>eerste</u> prefab composietbrug.</p>
<p>C</p>	<p>Welk kunstwerk staat ter hoogte van deze brug?</p> 	<p>De magische zeven</p>



<p>D</p>	<p>Waar is deze brug aangelegd?</p> 	<p>Walibi terrein</p>
<p>E</p>	<p>Waarom is het transformatorhuisje bij de Ketelbrug aangepast?</p> 	<p>Het is aangepast als woonruimte voor vleermuizen.</p>

Bronnen: Internetsites




Vraag 22: Activiteiten in de Gemeente


Naar aanleiding van de Week van Ontmoeting 2025 werd er bekend gemaakt wat er zoal in de Gemeente Dronten te doen is. En dat is heel veel! Het werd zelfs een A4-pagina inlegvel in de Flevopost.

Beantwoord de volgende vragen over het A4-pagina inlegvel:

A	Het werd zelfs genoemd, de officiële opening van.....	De opening van MeerSamenBakkie
B	Voor welke sportieve activiteit wordt € 0,50 gevraagd?	Wandelen (Wandeling vanaf De Meerpaal)
C	En wie is de aanbieder van 2?	Mensendieck (Dronten)
D	Waar mag je een kaarsje aansteken?	Open Ark Protestantse Gemeente Dronten
E	Wat kan je iedere zondag van 14.00 tot 16.00 gratis doen?	Jeu de Boules op (bungalowpark) De Boschberg
F	Wanneer kan je terecht bij Crea Plus?	Elke woensdag van 9.30 tot 11.30 uur OF vanaf 55 jaar.
G	Welke activiteit vindt plaats in alle drie de dorpen?	Koffie met een oortje
H	Er staan een aantal activiteiten in met expliciet de leeftijd van 18+. Noem er 2.	Twee van de volgende activiteiten: 1. Gouwe Ouwe, 2. Disco UnLtd, 3. Grenzeloos Koken, 4. 'Bewegen op Muziek' en 'Boksen als hersentraining', 5. Nazomer Lunch en KoffieOntmoeting,



		6. Wandeling in de regio, 7. Lunch, 8. Inloophuis De Herberg, 9. Bridgeles voor beginners en gevorderden, 10. Brei- en haakclub, 11. Klaverjassen, 12. Inloopochtend
I	Wat biedt Flevomeer Bibliotheek aan op de woensdag ochtend?	DigiCafé
J	Wie is de aanbieder van De Derde Helft?	Oldstars ATC Swifterbant



Vraag 23: Zet een kaars voor je raam.




Rob de Nijs zong vroeger: “Zet een kaars voor je raam vannacht.”


De fotograaf is bij een aantal gebouwen geweest om te vragen of de mensen een kaars wilden plaatsen.

Bij welke gebouwen is de fotograaf geweest? Noteer per gebouw de naam.



A	B
	
Het Tussendek	De Kombuis

C	D	E
		
De Kroon	De Tas	De Regenboog



Vraag 24: Wat is weg?

Tijdens Lowlands zijn er veel tijdelijke locaties opgezet. Eén ervan is onderstaande schuur.




A Welke naam stond er op deze schuur?



Het woordje BARN


Bij het Dorpsfestival in Swifterbant kon je o.a. via deze ingang het feestterrein op.





B Welk jaartal stond er op de kisten?

2006



Vraag 25: Gemeenteblad


GEMEENTEBLAD

Officiële uitgave van de gemeente Dronten


Aanvragen voor allerlei vergunningen worden bekend gemaakt via het gemeenteblad. Hieronder een aantal vragen over vergunningen. Beantwoord de vragen.

A	Op 7 mei 2025 werd een alcoholvergunning aangevraagd. Voor welke activiteit?	Muziek verbindt in Swifterbant
B	Een evenement vergunning werd op 18 maart 2025 aangevraagd. Voor welk evenement?	Haringparty 2025
C	Op 15 maart werd een vergunning verleend voor een verbouwing. Voor welke winkel?	AH aan kop van het Ruim
D	Op 19 augustus 2025 werd een vergunning voor een evenement aangevraagd. Voor welk evenement is dat?	Winterfair en lichtjestour in Biddinghuizen
E	Hoeveel aanvragen voor een evenement zijn er in 2024 bij de gemeente Dronten ingediend?	88

Bron: de gemeentebladen en het jaarverslag 2024 van Dronten




EINDE CATEGORIE KLEINE KWIS DEELNEMERS



Vraag 26: Schoolgeld


Er is een uitdrukking: “Haal je schoolgeld terug.”

Met die uitdrukking wordt wel eens iemand aangesproken die onwetend is of domme dingen zegt, terwijl hij/zij het zou moeten weten. De fotograaf is bij een tiental scholen in de gemeente geweest om geld terug te halen. Hij kwam telkens voor een gesloten deur. Aan jullie de taak om in het kader onder de foto's bij het nummer de juiste naam van de school te zetten.





	Naam		Naam
1	De Tamarisk	6	De Schatkamer (B)
2	De Duykeldam (S)	7	Het Zuiderlicht/Christiaan Huygens (D)
3	Het Wilgerijs (D)	8	De Dukdalf (D)
4	De Branding (S)	9	De Wingerd (B)
5	De Flevosprong (D)	10	De Golfslag (S)




Vraag 27: Inwoners

Een paar cijfertjes en vragen over de gemeente Dronten! Beantwoord de volgende vragen:



A	Wat is de naam (voor- en achternaam) van de 45.000 ^e inwoner?	Johannes Gerardus Kok
B	Wanneer kwam de 35.000 ^e inwoner?	1999 de 2-jarige Noah Woning (Zwart op wit)
C	Als eerste bewoner wordt de familie Keesman genoemd. Dertien gezinnen kregen op dezelfde dag de sleutel van hun huis. Waarom werd Keesman als eerste aangewezen?	De familie Keesman waren de eersten die overnachtten in hun nieuwe woning.
D	Hoeveel inwoners had de gemeente Dronten tijdens de instelling van de gemeente in januari 1972?	Ruim 13.000
E	Welk percentage inwoners in de gemeente Dronten heeft in 2025 een Nederlandse achtergrond?	86,4%

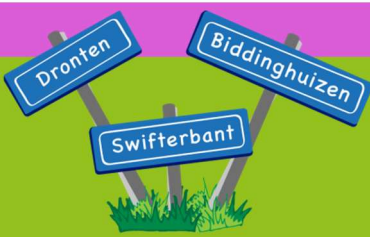
Bronnen: De Drontenaar, Zwart-Wit, Radio.







Vraag 28: Herken de locaties

De fotograaf had weer eens een goede dag en ging een rondje fietsen. Tijdens de fietstocht maakte de fotograaf van de volgende locaties een foto. Waar is de fotograaf geweest? Schrijf naast elke foto de straat en het huisnummer.

<p>A</p>		<p>Prof. Zuurlaan 12</p>
<p>B</p>		<p>Ankerplaats I</p>





<p>C</p>		<p>Campbellhof 8a</p>
<p>D</p>		<p>Wapenschild 16</p>
<p>E</p>		<p>De Snit 33</p>




Vraag 29: Uit de Ouwe Doos


Stof de herinneringen af, want we gaan terug in de tijd! Hoe goed kennen jullie deze opvallende momenten uit de geschiedenis van Dronten?

<p>A In 1998 werd de slogan voor Dronten: “Doe het in Dronten”.</p> <p>Burgemeester Toine Gresel gaf hier wel op een bijzondere manier blijk van.</p> <p>Wat was de aanleiding van deze foto?</p> 	<p>Pretpark Walibi werd Huis van de Gemeente. Daardoor kan er op Walibi getrouwd worden en dit was het eerste bruidspaar dat op Walibi trouwde.</p>
<p>B In 1998 opende Kwintus Nova met een schaatsbaan.</p> <p>Wie verzorgde in het begin de ijsvloer?</p>	<p>Derk de Boer</p>



<p>C Een mijlpaal voor Dronten en Flevoland in het jaar 2000!</p> <p>Op 13 juli vierden Jan Keppel en Gerrie Keppel-Hegeman een bijzonder feest.</p> <p>Wat vierden zij?</p>	<p>Hun zeventig jarig huwelijk / Platina huwelijk</p>
<p>D Vanaf 1 april 2001 werd het wettelijk mogelijk voor mensen van hetzelfde geslacht om in het huwelijk te treden.</p> <p>Wie hadden niet alleen voor Dronten, maar ook voor Flevoland, de primeur op 17 april?</p>	<p>De dames Fiet Janssen en Kitty Veuger.</p>
<p>E Toine Gresel kreeg maar geen genoeg van het door de lucht zweven.</p> <p>Wat was de aanleiding dat hij hier van de Toren in Biddinghuizen tokkelde?</p> 	<p>Het behoorde bij de openingsfestiviteiten van de wijkposten in de drie kernen.</p>

Bron: Zwart op wit 1998-2002




Vraag 30: In het nieuws!

Afgelopen jaar waren er diverse activiteiten waar in de lokale pers aandacht aan werd besteed. Als jullie de lokale media in de gaten hebben gehouden kunnen jullie zeker de volgende vragen beantwoorden.

Bron: Drontenaar , LOD. Flevopost

A	Op 15 oktober 2025 werd het boek 'Wonderen bestaan' uitgebracht. Wie is de schrijver?	Ruthger Steenbeek
B	Gejanne Lussenburg won medailles tijdens het Nederlands kampioenschap Masters voor vrouwen 35+. Welke medailles won ze en waarvoor?	Goud op 100 m. horden, goud bij kogelstoten en zilver bij verspringen. (Vraag niet goed gesteld, iedereen die een antwoord heeft goed rekenen).
C	Wie won de fotowedstrijd "Vrijheid" en wat stond er op de foto?	Timme Huisjes met de paardenbloem.
D	Er zijn plannen met de werken van Lixenberg. Er wordt specifiek gezocht naar een bepaald soort foto's. Wat voor foto's zijn dat en waar staat dat kunstwerk?	Trouwfoto's bij kunstwerk Ketelhaven
E	Hoeveel heeft de Dukdalf bijengelopen en waarvoor?	€ 3.460,85 voor de Voedselbank
F	Welke prestatie leverde Demi Kuijpers en waarvoor?	6 kilometer hardlopen of 15 rondjes op de 400 meter op hoge hakken voor Schoon drinkwater Simavi.
G	Welke buurmeisjes (voornamen is voldoende) organiseerden een grote buurtpicknick?	Amy en Vera.
H	Op welke datum, waar en aan wie werd de eerste onderscheiding van St. Rugvin uitgereikt?	Op 8 november in Utrecht aan Florien de Vries.
I	Olivia en Maartje zijn de eerste winnaars geworden van.....	de Kriebelbeestjes zoektocht.
J	Wie volbracht de Ironman op Hawaï in een tijd van 11 uur en 10 minuten?	Annemarie Rustenburg




Categorie 4: Denkwerk en Puzzelen

Vraag 31: Woordzoeker


In dit diagram staan woorden waarvan de meeste met Onze Dorpskwis te maken hebben. Ze kunnen horizontaal, verticaal of diagonaal staan. De woorden staan in alfabetische volgorde onder het diagram. Zoek de woorden, streep ze door en geef antwoord op de twee vragen.

N	E	T	H	C	A	R	D	P	O	V	K	S	Z
D	D	M	A	R	G	O	T	P	Y	R	C	E	W
N	K	N	A	T	K	N	E	D	I	A	S	E	T
O	I	N	K	W	A	A	K	R	N	A	L	I	N
V	N	E	W	E	O	W	S	O	L	G	O	R	A
A	D	V	E	R	I	P	N	N	E	S	T	O	B
S	E	E	R	K	O	E	R	T	V	I	A	G	R
I	R	Z	K	N	R	A	G	E	E	W	V	E	E
W	W	I	S	U	R	F	E	N	R	K	O	T	T
K	E	O	E	L	E	M	E	N	T	S	N	A	F
IJ	R	L	IJ	S	T	P	I	U	IJ	P	D	C	I
S	K	S	R	E	K	E	O	Z	D	R	O	O	W
J	P	G	E	B	B	E	N	D	U	O	Z	L	S
E	N	E	Z	I	U	H	G	N	I	D	D	I	B



BIDDINGHUIZEN CATEGORIE CRYPTOGRAM DENKTANK DORPSKWIS DRONTEN ELEMENT FANS GEBBEN HAAKWERK	IJSJE INLEVERTIJD INSTRUCTIE KINDERWERK KLEUREN KWAAK KWIKKIE KWISAVOND LIJST OPDRACHTEN	OUD RAGE SLOTAVOND SPONSORS SURFEN SWIFTERBANT VRAAG WERK WOORDZOEKER ZEVEN
---	---	--


A	Onze puzzelmaker heeft 29 van de 30 woorden in het diagram verstopt. Welk woord staat NIET in het diagram?	INSTRUCTIE
B	Hussel de overgebleven letters door elkaar en maak daarvan een goed woord dat te maken heeft met de activiteit van vanavond. Dat woord is:	DORPSKWISPUZZEL



Vraag 32: Wat hoort waar?

Hieronder staat in de linker kolom een raster met 9 hokjes. Eén van die hokjes is leeg. Aan u de taak om uit te zoeken welk figuur uit de middelste of de rechter kolom in dat lege hokjes hoort. Omcirkel de letter van het juiste figuur.

<p>1 b</p>	<p>A</p>	<p>B</p>
<p>2 d</p>	<p>A</p>	<p>B</p>
<p>3 a</p>	<p>A</p>	<p>B</p>
<p>4a</p>	<p>A</p>	<p>B</p>
<p>5c</p>	<p>A</p>	<p>B</p>
	<p>C</p>	<p>D</p>



Vraag 33: Rondje dorpen in Denkwerk

Huidige gemeente Dronten.

Oorspronkelijk waren er meer dorpen/plaatsen gepland in Oost-Flevoland dan er nu zijn.

Tel het totaal aantal letters van alle dorpen die in 1955 (uitgangspunt is de plattegrond die in 1954 door de Rijksdienst is uitgegeven) op het grondgebied van de huidige gemeente Dronten gepland waren.



Biddinghuizen (13), Swifterbant (11), Roggebot (8), Dronten (7), Abbert (6), Hoophuizen (10), Bremerberg (10). (Totaal 65). (NB: de plaatsen Lelystad, Zeewolde, Burchtkamp, Zelhorst en Larsen waren niet ingetekend op huidig grondgebied gemeente Dronten)

Haal hier het aantal letters af van het meest noordelijk geplande dorp. (Swifterbant 11)

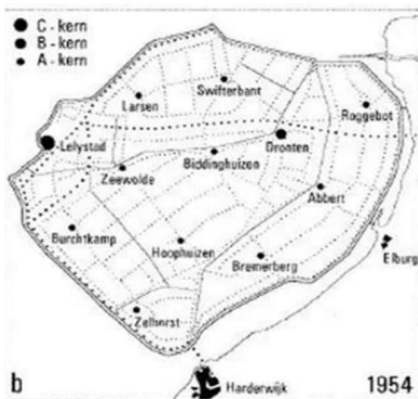
Tel het aantal letters van het meest zuidelijk geplande dorp erbij op. (Bremerberg 10)

Trek het aantal letters van het meest westelijk én meest oostelijk geplande dorp er af. (Hoophuizen 10 + Roggebot 8)

Trek vervolgens het aantal letters van het dorp dat het dichtst bij Harderwijk gepland was er af. (Hoophuizen 10)


Deel dit getal door het aantal letters van een kleine pioniersnederzetting die in 1955 wel bestond, maar niet op kaarten uit die tijd genoemd wordt. (Ketelhaven 10)

Welk cijfer houd je over?



A	Welk cijfer houd je over?
$(65 - 11 + 10 - 18 - 10) : 10 = 3,6$	

Bron: <https://emmeloord.info/dorpenplan-oostelijk-flevoland/>




Vraag 34: Sudoku

Los beide sudoku's op.

3	1	5	4	6	2	9	8	7
9	4	8	1	3	7	6	5	2
7	2	6	5	8	7	3	4	1
6	8	9	2	1	3	5	7	4
1	5	2	6	7	4	8	9	3
4	7	3	8	9	5	1	2	6
8	9	7	3	4	6	2	1	5
2	6	4	9	5	1	7	3	8
5	3	1	7	2	8	4	6	9


1	2	6	7	4	5	9	8	3
8	4	9	6	3	1	7	2	5
7	5	3	9	8	2	1	4	6
2	8	1	4	9	6	3	5	7
3	6	4	1	5	7	8	9	2
9	7	5	3	2	8	4	6	1
5	3	7	8	6	9	2	1	4
6	1	8	2	7	4	5	3	9
4	9	2	5	1	3	6	7	8

- 2 Tel de getallen in het linker diagram van diagonaal linksboven naar rechtsonder op. Schrijf het antwoord hieronder bij A
- 3 Doe datzelfde met de getallen diagonaal rechtsboven naar linksonder. Schrijf het antwoord bij B.
- 4 Tel de getallen in het rechter diagram van diagonaal linksboven naar rechtsonder op. Schrijf het antwoord hieronder bij C
- 5 Doe datzelfde met de getallen diagonaal rechtsboven naar linksonder. Schrijf het antwoord bij D.
- 6 Vermenigvuldig A X B. Maak de som aan de achterkant van deze pagina. Noteer het antwoord hieronder bij E.
- 7 Vermenigvuldig C X D. Maak de som aan de achterkant van deze pagina. Noteer het antwoord hieronder bij F.
- 8 Vermenigvuldig E X F. Maak de som aan de achterkant van deze pagina. Noteer het antwoord hieronder bij G.
- 9 Deel G door 7. Maak de staartdeling aan de achterkant van deze pagina. Noteer het antwoord hieronder bij H.
- 10 Hoeveel moet er bij G opgeteld worden om er een deling zonder rest van te maken? Noteer het antwoord hieronder bij I.



A	41	F	1216
B	51	G	2542656
C	38	H	363236 REST 4
D	32	I	3
E	2091		

<p>⑥ A x B</p> <pre> 41 51 x --- 41 2050 + 2091 </pre>	<p>⑦ C x D</p> <pre> 38 32 x --- 76 1140 + 1216 </pre>	<p>⑧ E x F</p> <pre> 2091 1216 x --- 12546 20910 418200 2091000 + 2542656 </pre>
<p>⑨ G : 7</p> <pre> 7 2542656 363236 21 --- 44 42 --- 22 21 --- 16 14 --- 25 21 --- 46 42 --- 4 </pre>	<p>OF</p> <pre> 2542656 : 7 2100000 300000 x 442656 420000 60000 x 22656 21000 3000 x 1656 1400 200 x 256 210 30 x 46 42 6 x 4 363236 </pre>	



Vraag 35: Om over na te denken

Beantwoord de volgende doordenkers!

A Je hebt acht houten blokken. Zeven blokken zijn even zwaar, het achtste blok is iets zwaarder dan de rest. Hoeveel weegbeurten – met een klassieke weegschaal zoals hiernaast afgebeeld – heb je minimaal nodig om het zwaardere blok te vinden als je niet toevallig al bij de eerste beurt het zwaardere blok pakt?

Twee beurten. Je weegt eerst twee keer drie blokken. Zijn ze gelijk in gewicht dan zit het zwaardere blok bij de overgebleven twee blokken welke je met de volgende weegbeurt kunt vinden. Is één van de groepen van drie blokken zwaarder dan weeg je vervolgens twee van die drie blokken. Slaat de weegschaal naar één kant uit dan is dat het zwaarste blok. Blijft de weegschaal in evenwicht, dan is het niet gewogen blok het zwaarst.

B Hoe vaak kun je tien van honderd aftrekken?

Maar één keer natuurlijk; daarna is het immers geen honderd meer.


C Vier dronken broers willen 's nachts naar huis. Er is echter maar 1 fiets met een bagagedrager én zonder werkende verlichting mag er niet gefietst worden. Per keer kunnen er dus maar twee personen op de fiets. De minst dronken broer doet er twee minuten over om naar huis te fietsen. De tweede lukt het in 4 minuten, de derde heeft 8 minuten nodig en de meest dronken broer kan in 12 minuten naar huis fietsen. Wanneer twee broers samen op de fiets zitten kunnen ze niet sneller fietsen dan de langzaamste van het stel. Wat is de snelste tijd waarin de broers thuis kunnen zijn?

26 minuten.

Stap 1 → **A (2)** en **B (4)** fietsen samen naar huis.

Tijd: **4 minuten**

(tempo van B)



Stap 2 → A fietst alleen terug.

Tijd: **2 minuten**

Totaal: 6 minuten

Stap 3 → C (8) en D (12) fietsen samen naar huis.

Tijd: **12 minuten**

(tempo van D)

Totaal: 18 minuten

Stap 4 → B fietst alleen terug.

Tijd: **4 minuten**

Totaal: 22 minuten

Stap 5 → A en B fietsen samen voor de laatste keer naar huis.

Tijd: **4 minuten**

Totaal: 26 minuten





D

Wat is de waarde van de helft van $\frac{2}{3}$ van $\frac{3}{4}$ van $\frac{4}{5}$ van $\frac{5}{6}$ van $\frac{6}{7}$ van $\frac{7}{8}$ van $\frac{8}{9}$ van $\frac{9}{10}$ van 1000 euro?

100 euro. $\frac{9}{10} = 900$, $\frac{8}{9} = 800$ etc.

E


Je ziet hieronder 5 figuren. Welk figuur hoort er niet bij? Omcirkel het figuur.



Alleen deze is niet uniek










EINDE CATEGORIE KLEINE KWIS DEELNEMERS




Vraag 36: Raad het plaatje!

Onze Denktank-fotograaf heeft van een aantal voorwerpen een detailfoto gemaakt. Noteer van iedere foto van welk voorwerp het een detail is.



1	Vergiet	6	Zonnebloem
2	Scheerkop (bovenaanzicht)	7	Markeerstift (bovenaanzicht)
3	Eiersnijder	8	F-sleutel /bassleutel
4	(Bovenkant) poedersuiker-strooibus	9	Suikerpot (bovenaanzicht)
5	Wafelijzer	10	Scheerkwast



Vraag 37: Cryptogram


Los het cryptogram op en geef antwoord op de vraag:

HORIZONTALAAL

A1 Die gids maakt keet (5) **A7** Dat is de buitenste lijn van het land (5) **B1** Toegang tot de weg omhoog? (5) **B7** In die landengroep zie je U-edele weer (2) **B10** Neer? Nee, integendeel! (2) **C1** Eerste of originele versie (2) **C4** Deze vorm liet het glas achter op de houten tafel (5) **C10** In het regeringsreglement staat dit synoniem voor bloeddrukmeting (2) **D1** Kom tot de kern van de zaak! (7) **D9** Die Franse vriend ziet iets slims in de Cloud (3) **E2** Men zag bleek in de Limburgse plaats zonder S (4) **E8** Kletsen in het Engels met typeberichten (4) **F1** Eén stukje vlees van twee dieren (11) **G1** De KLM van Italië (3) **G5** Hou rekening met deze factuur (4) **H6** Universiteitsdocent die tevens beroepsvoetballer is (4) **I1** Er hangt ongewenste franje aan die broek (5) **I7** Haal π uit de aflevering en je hebt een Spaanse Business School. Of is het een lofdicht op een loofboom? (5) **J1** De predikante staat voor de drogisterij (2) **J4** Je kunt in dat vlees op een houtje bijten (4) **J9** In die Franse straat zie je de afkorting van het werelddeel weer (3) **K1** In die plaats is de maat heilig (4) **K6** Het heldendicht zit in de soep (4)

VERTICAAL

A1 Deze spruit is zwaar, zo te horen (4) **A2** Ik heb die verwar(ren)de taak plus T verkeerd geïnterpreteerd (7) **A3** Die werknemersvertegenwoordiging is in Frankrijk (van) goud (2) **A4** De lijvige baal werd hiervoor uitgescholden (6) **A5** De halve middellijnen schitteren (7) **A7** Die zanggroep kent geen schaamte (4) **A8** Daarachter is het gebeurd (3) **A10** Gewoon gevangeniseten? (7) **A11** Spuit zo'n koekje? (6) **C6** (De) eerste persoon enkelvoud (2) **D3** Waarom er op dat schip een dubbel rondhout zit is mij een raadsel **D9** De winkelier was na de eerste aangenaam verrast (3) **E8** Het wordt een enorme troep als men weer ach roept voor een os (5) **F1** Een kwart liet het touw schieten (6) **F6** Als jij je in een aantal kleintjes van dit soort bevindt, ben je blij (3) **F7** De Amerikaanse actrice ziet een lijn (6) **H4** Met u voor dit kledingstuk kunt u een zwaard vasthouden (4) **H9** Als dit vóór bedrag staat betekent het veel geld (4) **H11** Een zoon van een broer van mijn vader (4) **I2** De eerste is reeds een vis (3) **I5** Doe die muzieknoot maar in de schuifbak (2) **I10** Ik mag in Duitsland 'jij' tegen hem zeggen (2) **J6** Als dit ergens voor staat is het meestal niet goed (2)




	1	2	3	4	5	6	7	8	9	10	11
A	L	O	O	D	S		G	R	E	N	S
B	O	P	R	I	T		E	U		O	P
C	O	G		K	R	I	N	G		R	R
D	T	E	R	Z	A	K	E		A	M	I
E		V	A	A	L			C	H	A	T
F	V	A	R	K	E	N	S	H	A	A	S
G	I	T	A		N	O	T	A		L	
H	E			V		P	R	O	F		N
I	R	A	F	E	L		E	S	O	D	E
J	D	A		S	A	T	E		R	U	E
K	E	L	S	T		E	P	O	S		F

In het woord DORPSKWIS staat twee keer de letter S.

A In hoeveel woorden in het diagram komt één of meer keren de letter S voor?

Antwoord: 13 KEER
(LOODS GRENS VARKENSHAAS ECODE SATE ELST EPOS
STRALEN SPRITS CHAOS STREEP VEST FORS)




Vraag 38: De rode draad

Hieronder staan 20 woorden. Daarvan passen er telkens 4 bij elkaar. Ze hebben, zoals Philip Freriks in 'De Slimste Mens' dat noemde: een overkoepelend thema. Er zijn vijf rode draden. Noteer de bij elkaar horende nummers en zet erachter wat de rode draad is.






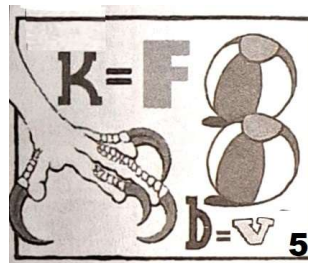



1 STOK	2 NESTOR	3 REVOLVER
4 CRUYFF	5 ROGGE	6 GEBIT
7 EEKHOORNTJES	8 STOREN	9 LODEN PIJP
10 NEESKENS	11 VERDIEPING	12 WIT
13 ROTSEN	14 KRUIER	15 DERKSEN
16 REMKES	17 TORENS	18 DOLK
19 LEIDING	20 KANDELAAR	

1, 5, 7, 12	(STOK, ROGGE, EEKHOORNTJES, WIT)BROOD
2, 8, 13, 17	(NESTOR, STOREN, ROTSEN, TORENS)	ANAGRAMMEN/ ZELFDE LETTERS
3, 9, 18, 20	(REVOLVER, LODEN PIJP, DOLK, KANDELAAR)	MOORDWAPENS (BIJ CLUEDO)
4,10, 15,16	(CRUYFF, NEESKENS, DERKSEN, REMKES)	VOORNAAM JOHAN
6, 11, 14, 19	(GEBIT, VERDIEPING, KRUIER, LEIDING)	BOVEN..... Of ONDER




Vraag 39: Rebus

Hieronder staan 10 woordrebussen, genummerd van 1 t/m 10. Noteer de oplossing per rebus.



1	Intern	6	Rooster
2	Ringlijn	7	Zwijnenstal
3	Genade	8	Puddingvorm
4	Sportvisser	9	Paplepel
5	Flauwvallen	10	Aanwijstok




Vraag 40: Van A tot Z

Je hoort wel eens de uitdrukking “Dat is van A tot Z gelogen”. Deze puzzel is van A tot Z geschreven. Hieronder staan 10 Nederlandse plaatsnamen, MAAR: De letters staan van A tot Z, dus in alfabetische volgorde Aan jullie de taak om van die letterbrij weer de goede plaatsnamen te maken.

1	B E E K L N O O R R S T U
2	A C E E E F H I L N P R S
3	A E E E E G I J L N N R S S T V
4	E F H H I L O O P P S T U Y
5	A B E E E H K M O R R T T
6	A D E E E E F L N N O O R R S V
7	A A A B D E L L M R S S
8	A B C E E G G I M N O O P R R
9	D E E E E H I I M N R T U U Z
10	A C D D E E H I L M N S



1	KLOOSTERBUREN	6	ROELOFARENDVSVEEN
2	FRIESCHEPALEN	7	ALBLASSERDAM
3	GASSELTERNIJVEEN	8	BORGERCOMPAGNIE
4	HIPPOLYTUSHOEF	9	UITHUIZERMEEDEN
5	HATTEMERBROEK	10	LEIDSCHENDAM






Categorie 5: Te Land, ter Zee en in de Lucht

Vraag 41: Ruimte

Onderstaande foto's zijn vanuit de ruimte gemaakt. Wij hebben daar wat vragen over bedacht. Beantwoord die vragen.


<p>A</p>	<p>Welke woestijn en rivier zie je hier?</p> 	<p>De Nijl en de Nubische Woestijn of Sahara</p>
<p>B</p>	<p>Welke bergketen zie je hier?</p> 	<p>De Grote Himalaya</p>



<p>C</p>	<p>Welke golf zie je hier?</p>  A satellite photograph showing the Persian Gulf region. The water is a deep blue, and the surrounding land is a mix of brown and green, with some white areas indicating snow or ice. The Persian Gulf is clearly visible in the center-right of the image.	<p>Perzische Golf</p>
<p>D</p>	<p>Welke eilandengroep is dit?</p>  A satellite photograph of the Bahamas archipelago. The islands are small and scattered, with a mix of green and brown colors. The surrounding water is a deep blue, and the overall shape of the archipelago is clearly visible.	<p>Bahama eilanden</p>




E Welke zoutwoestijn is dit? Benoem ook het land waar het in ligt.



Dasht-i-Kavir, Iran

(Dasht-e-Kavir of Grote Zoutwoestijn is ook goed)


Bron: Onze Aarde – Kevin W. Kelly, Jacques-Yves Cousteau



Vraag 42: Te land en ter Zee

<p>A</p>	<p>Op een Nederlandse hoofdvaarweg (bijvoorbeeld een groot kanaal), zonder verkeerslichten of tekens, naderen drie schepen een smal stuk waar slechts één tegelijk door kan:</p> <ul style="list-style-type: none"> -Schip A: een zeilboot met de wind aan stuurboord. -Schip B: een zeilboot met de wind aan bakboord. -Schip C: een groot motorschip (beroepsvaart) dat recht door wil varen. <p>Wie heeft in deze situatie voorrang?</p>	<p>Schip C.</p> <ol style="list-style-type: none"> 1. Schip C (beroepsvaart) mag als eerste door. 2. Daarna volgt Schip A (zeilboot met stuurboordwind). 3. Schip B (bakboordwind) komt als laatste.
<p>B</p>	<p>In België nadert een automobilist een kruispunt zonder verkeerslichten of verkeersborden. Er komen gelijktijdig drie voertuigen aan:</p> <ul style="list-style-type: none"> -Auto A komt uit het noorden en wil rechtdoor. -Auto B komt uit het oosten en wil linksaf slaan. -Auto C komt uit het westen en wil rechtsaf slaan. <p>Alle drie bereiken ze het kruispunt op exact hetzelfde moment.</p> <p>Welke wagen mag als eerste het kruispunt oversteken volgens de Belgische wegcode, en waarom?</p>	<p>Wagen C</p> <p>Strikt juridisch: als je alleen strikt artikelregels toepast, ontstaat een circulaire impasse (A moet B laten voorgaan; B moet C laten voorgaan; A moet C laten voorgaan). Dus C.</p>

Bron veilig verkeer en Wegcode




Vraag 43: Hoogspanningsmasten



De komende jaren verschijnen er meer hoogspanningsmasten omdat de energiebehoefte toeneemt. De volgende vragen gaan daarover.

A	Hoe heet het Nederlandse ontwerp voor een moderne hoogspanningsmast?	Wintrack
B	Het Nederlands ontwerp blijkt te duur en de nieuwe masten hebben een andere naam, welke?	De Moldau
C	Tussen welke plaatsen komen de eerste 193 exemplaren van de nieuwe masten?	Tussen Rilland en Tilburg
D	De hoogste hoogspanningsmasten staan over de Lek. Hoe hoog zijn die?	163 meter
E	Hoeveel nieuwe hoogspanningsstations stonden er gepland in 2025 om gebouwd te worden?	25






Bron: Trouw 24 maart 2025









Vraag 44: Watergeluiden

Scan de QR-codes en noteer per fragment het juiste watergeluid!



A	B	C	D	E
<p>Scan me</p> 	<p>Scan me</p> 	<p>Scan me</p> 	<p>Scan me</p> 	<p>Scan me</p> 
Bommetje in het water/plonzen	Druppelende kraan	Fles openen en inschenken	Flinke regenbui	Golven op het strand

F	G	H	I	J
<p>Scan me</p> 	<p>Scan me</p> 	<p>Scan me</p> 	<p>Scan me</p> 	<p>Scan me</p> 
Gorgelen	In plas springen	Water loopt in rioolput	Water uit een plas scheppen	Doortrekken wc



Vraag 44: Mobiliteit




Busvervoer in Dronten. Beantwoord de volgende vijf vragen.

A	Welke vervoersmaatschappij verzorgde de eerste lijndienst in 1954?	VAD
B	De Flevodienst werd in 1959 opgericht. Waarvan was dat een dochtermaatschappij?	Nederlandse spoorwegen
C	Door de komst van de spoorlijn vervielen bushaltes. Maar er kwamen stadsbuslijnen bij. Welke nummers hadden zij?	21 en 22
D	In 2023 kregen de stadbussen nieuwe nummers, welke?	521 en 522
E	Voor Aeres Hogeschool rijdt in de ochtenduren een bus. Wat is het nummer van deze bus? (2025)	646




EINDE CATEGORIE KLEINE KWIS DEELNEMERS




Vraag 46: Sinterklaas

De intocht van Sinterklaas gaat op veel manieren en niet altijd vlekkeloos. In welke stad of dorp zijn de foto's genomen?

A		Gouda
B		Biddinghuizen
C		Lelystad



D		Ospeldijk
E		Emmeloord




Vraag 47: Waterland



Nederland=waterland. Beantwoord de volgende vragen.

A	In welke stad ligt het Nederlands watermuseum?	Arnhem
B	Waar ligt het laagste punt van Nederland?	Nieuwerkerk aan de IJssel (6.76 onder NAP) / OF Zuidplaspolder
C	Hoeveel polders telt Nederland?	Ongeveer tussen de 3800 / 4000
D	In welke eeuw werd er al gebruik gemaakt van dijken?	Elfde of twaalfde eeuw
E	Hoeveel % van Nederland ligt onder de zeespiegel?	26%

Bron: ANWB quiz




Vraag 48: Watersport Flevoland



Als in Flevoland iets past, met al dat water, dan is het zeilen.

A	Welke sportbond verplaatst een van zijn trainingscentra in 2026 naar Almere?	Het watersportverbond
B	Waar staat het trainingscentrum nu van de bond uit boven gestelde vraag?	Medemblik.
C	Een gedeelte van het trainingscentrum verhuist niet mee. Maar blijft in.....	Scheveningen
D	In oktober 2025 vond er een NK plaats op het Veluwemeer bij Biddinghuizen. Welk NK is dat?	Open NK radiozeilen klasse RG65
E	De Breehorncup werd tijdens de Flevoland Regatta 2025 gewonnen door Erik ten Hove. Hoe heette zijn boot?	Blue print


Bron: Trouw 18 oktober en www.watersportverbond.nl



Vraag 49: Weggesleepte Auto's

Door de provincie zijn in 2025 onderstaande twee auto's weggesleept omdat de eigenaren van deze auto's niet konden worden achterhaald terwijl de auto's zich binnen de obstakelvrije zone langs de weg bevonden. Langs welke wegen stonden deze auto's?

<p>A</p>		<p>N305</p> <p>bron: PROVINCIAAL BLAD Nr. 8830 2 juni 2025 Publicatie weggesleept voertuig N305, hmp. Re 0.2</p>
<p>B</p>		<p>N351</p> <p>bron: PROVINCIAAL BLAD Nr. 8710 30 mei 2025 Publicatie weggesleept voertuig N351, hmp. 56,8</p>




Vraag 50: Waterwerkzaamheden

Beschoeiing wordt vervangen in het kanaal. Je ziet hier een bord, noteer de betekenis van de 6 afbeeldingen.

A








1. **Links boven – twee pijlen met stippellijn**
Dit betekent: Het schip is verplicht aan de stuurboordzijde van het vaarwater te varen en te blijven.
2. **Rechts boven – golvende lijnen met schuine streep**
Verboden hinderlijke waterbewegingen te veroorzaken
3. **Midden rechts – verticale balk**
Verplicht bijzonder op te letten.
4. **Links midden – cijfer 6**
Dit geeft de maximale snelheid aan: 6 km/u.
5. **Rechts onder – zwart-wit zandloper-achtig symbool**
Dit betekent: **doorgang versmald/ nauwe doorvaart.** Schepen moeten hier rekening houden met beperkte ruimte.
6. **Onder – “Werkzaamheden”**
Geeft aan dat de situatie **tijdelijk** is vanwege **werkzaamheden**.




Categorie 6: Geschiedenis

Vraag 51: Stemmen en geschiedenis

Noteer de naam van de persoon die je hoort in het betreffende fragment.

A	B	C	D	E
				
Drees	Annie M.G. Schmidt	Koningin Emma	Ino Meijer	Lucy Knot



Vraag 52: Kaarten

Op deze twee kaarten van Nederland staan bepaalde gebeurtenissen vermeld. Over welke gebeurtenissen gaan de onderstaande kaarten?

<p>A</p>		<p>Bezoeken van de koninklijke familie op Koninginnedag/koningsdag in de afgelopen jaren.</p>
<p>B</p>		<p>De beeldenstorm Begon in 1566 en heeft ongeveer een jaar geduurd dus 1566/1567</p>

Bron: Bosch atlas voor Nederland




Vraag 53: Overstromingen



Wateroverlast is van alle tijden. In vroeger tijden kregen watersnoden mooie namen. Benoem de namen van de vijf watersnoden die deze gevolgen hadden.






A	Hoe werd de watersnood van 1953, meestal aangeduid als de Watersnoodramp of Februariramp aanvankelijk genoemd?	Ignatiusvloed of Beatrixvloed
B	Voor Dordrecht had de hier bedoelde watersnood desastreuze gevolgen. De stad verloor door het water haar achterland.	Sint-Elisabethvloed
C	Deze stormvloed was medeoorzaak van het ontstaan van de Zuiderzee, waardoor West-Friesland definitief werd gescheiden van het huidige Friesland.	Sint-Luciovloed
D	Na deze vloed kwamen circa 200 paarden vast komen te zitten op een kwelder bij de Friese plaats Marrum.	Allerheiligenvloed
E	Deze stormvloed had tot gevolg dat de monding van de Oude Rijn bijna volledig werd gesloten.	Sint-Thomasvloed

Bron: wikipedia en "De Nederlandse geschiedenis in jaartallen".



Vraag 54: Helmen


De wereld schrok in 2025 van de roof van een sierhelm. Maar ook de gewone helmen werden vroeger mooi versierd. Uit welke landen komen de onderstaande helmen?

A		Rusland
B		Duitsland
C		Noorwegen
D		Turkije
E		Engeland

Bron: etsy.com



Vraag 55: De eerste baby in Dronten geboren (niet de eerste in de gemeente!!)



Dit is dan, de eerste in Dronten geboren baby.


Zoals bekend is Dronten het eerste dorp dat in de polder Oostelijk Flevoland is verrezen en met de aanleg van die plaats is in 1961 een begin gemaakt.

A	Wat is de naam (voor- en achternaam) van de eerstgeboren baby in Dronten?	Marinus Faken
B	Wat is van deze baby de geboortedatum?	13 juli 1960
C	Het hoeveelste kind was deze baby in het gezin?	Derde kind
D	Wie was de kraamverzorgster? (voor- en achternaam)	Ali Venema-Kuiper
E	Wat was het postadres van de familie?	G.56 M1.3, post Kampen

Bron: Barak Historisch Dronten.



EINDE CATEGORIE KLEINE KWIS DEELNEMERS



Vraag 56: NAVO-top

Voor de NAVO-top 2025 in Den Haag waren veel voorbereidingen nodig en was er ongemak. Beantwoord daarover de volgende vragen. Kruis het juiste antwoord aan.



A	Hoeveel bomen moesten worden verplaatst? (in Den Haag?)	<ul style="list-style-type: none"> • 8 • 16 (goed) • 24
B	Hoeveel kilometer internetkabel is er voor de NAVO-top aangelegd?	<ul style="list-style-type: none"> • 25 • 30 (goed) • 35
C	Wat is de naam van de kinderboerderij die haar 25-jarig jubileum moest uitstellen?	<ul style="list-style-type: none"> • Hertenkamp • Boerenzaluw (goed) • Ons genoeg
D	Hoeveel kilometer aan hekken zijn geplaatst?	<ul style="list-style-type: none"> • 3 • 5 (goed) • 7
E	Wat was de naam van de operatie die defensie gaf aan de beveiliging en ondersteuning van de NAVO-top?	<ul style="list-style-type: none"> • Operation Safety for all • Operation Orange shield (goed) • Operation Spring storm

Bron: Trouw 21 juni



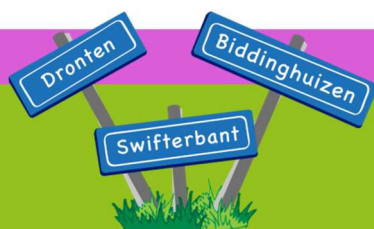
Vraag 57: De Paus



De Rooms Katholieke kerk was in 2025 veel in het nieuws. Beantwoord de vragen.

A	Hoeveel bisschoppen mochten in 2025 de paus kiezen?	133
B	De stembriefjes werden in urnen op het altaar gestopt. Wie schilderde het fresco dat achter het altaar hangt?	Michelangelo
C	Op welke leeftijd werd de jongste gekozen paus ooit verkozen?	24 jaar
D	Op 6 september 2025 liep een bijzondere groep mensen door de heilige deur in de St. Pieter, wie waren dat?	LBHTQ
E	Carlo Acutis werd zalig verklaard en een relikwie gaat op tournee. Waar bestaat het relikwie uit?	Hartzakje/pericardium

Bron: diverse artikelen in Trouw



Vraag 58: Zeskamp



De Dubbele Zeskamp staat nog in het geheugen van veel Drontenaren. Beantwoord de volgende vragen.

A	Uit hoeveel personen mocht de sportploeg bestaan?	15 of 18
B	Van wie was de landbouwschuur waar de sportieve opgaven werden geoefend?	Bendijk (Wisentweg)
C	Wie werd afgevaardigd als de Denker?	Ds. Van Noord
D	Wat was het onderwerp voor het verplichte toneelstuk dat opgevoerd moest worden?	Een keukenscene uit Swiebertje
E	Supporters konden mee met de bus naar Leeuwarden. Wat moesten zij daarvoor betalen?	7,75 gld

Bron: Dronten in zeskamproes



Vraag 59: In het kader van 80 jaar bevrijding

In het kader van 80 jaar bevrijding verscheen er in 2025 een drietal artikelen in de regionale krant.

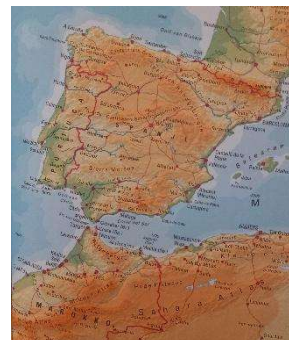
A	De interviews werden gedaan door studenten van de opleiding..... voor het vak	Opleiding Dienstverlening voor het vak Burgerschap
B	Wie vertelde de anekdote over mond-en-klauwzeer?	Mevr. Crijns
C	Wie durft nog steeds geen ballon op te blazen?	Mevr. Kramer
D	Wie had een buurman bij de suikerfabriek?	Heer van Gaalen
E	Geef van de bovenstaande 3 personen (vraag B t/m D) de naam en leeftijd toen het artikel werd geschreven.	Mw. Crijns 100 jaar Mw. Kamer 82 jaar Hr. van Gaalen 92 jaar.

Bron: De Flevopost.



Vraag 60: Moorse invloeden

In de middeleeuwen bestaat op het Iberische schiereiland, en het aangrenzende deel van Noord-Afrika, een bloeiende Moorse cultuur. De Moorse aanwezigheid in Spanje, die meer dan 750 jaar duurt, is nog steeds zichtbaar in de Arabische oorsprong van veel aardrijkskundige namen. Geef aan welke moderne plaats- en streeknamen erbij horen. Vul de woorden in, in het diagram. (Tip: spreek de woorden hardop uit.)



A. 1. Wadi al Hajara, “Dal van de stenen”. 2. Jabal al Tariq, de “berg van Tariq”, genoemd naar Tariq ibn Ziyad, de aanvoerder van het Moorse leger dat in 711 de naar hem genoemde zeestraat oversteekt. 3. Al Mariyyat, “de Uitkijktoren”. 4. Santa Maria Ibn Harun, “Santa Maria de Faaram”. 5. Qual’at Garnatah, « Citadel van de heuvel der vreemdelingen ». Er bevindt zich al ten tijde van de Moorse verovering een joods getto. 6. Fatimah, dochter van de profeet Mohammed. 7. Al Buhayra, de “Lagune”. 8. Al Gharb, “het westen”. 9. Tarif ibn Malik, een Moorse legeraanvoerder die in 710 een aanval uitvoert. 10. Al Andalus, “Land van de vandalen”. 11. Al Laqant, de Romeinse stad Lucentum. 12. Tolaitola, de naam die de Moren afleiden van het Romeinse Toletum.


B. Als alles goed is ingevuld, ontstaat de naam van een beroemd Spaans product dat juist in die periode verboden was.

1	G	U	A	D	E	L	A	J	A	R	A
2	G	I	B	R	A	L	T	A	R		
3	A	L	M	E	R	I	A				
4	F	A	R	O							
5	G	R	A	N	A	D	A				
6	F	A	T	I	M	A					
7	A	L	B	U	F	E	I	R	A		
8	A	L	G	A	R	V	E				
9	T	A	R	I	F	A					
10	A	N	D	A	L	U	S	I	E		
11	A	L	I	C	A	N	T	E			
12	T	O	L	E	D	O					

De oplossing:

1	2	3	4	5	6	7	8	9	10	11	12
J	A	M	O	N	I	B	E	R	I	C	O

Bron: Het grote Bosatlas Puzzelboek.







Categorie 7: Glitter & Glamour


Vraag 61: Outfits

Op de rode loper of tijdens andere gebeurtenissen steken bekende Nederlanders zich helemaal in de glitter en glamour. Hieronder staan een aantal bekende Nederlanders. Schrijf naast de foto om wie het gaat en om welk evenement het gaat.

<p>A</p>		<p>Wendy van Dijk- Gouden Televizier-Ring Gala 2025</p>
-----------------	--	---




B		Nikkie de Jager (Tutorials) – (Tweede halve finale) Eurovisiesongfestival 2021
C		De Toppers 2019 – Gerald Joling, René Froger en Jeroen van de Boom
D		Jim Bakkum – Masked Singer (Oud en nieuw 2023)



<p>E</p>		<p>Romee Strijd Première 78th Cannes Film Festival 2025</p>
----------	--	---











Bron: [Zien! De mooiste looks van bekend Nederlands tijdens het Gouden Televizier-Ring Gala](#)


[Nikkie straalt in jurk met kleuren van transgendervlag: 'Het is een droom' | Show | AD.nl](#)



Vraag 62: Merken

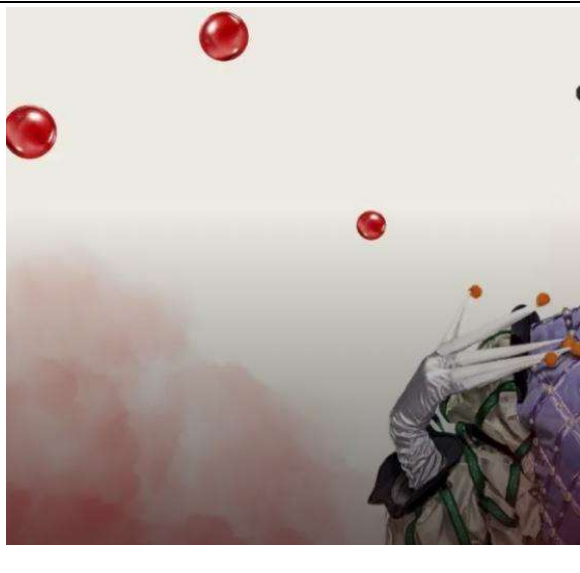

Waar glamour is, zijn de iconische merken nooit ver weg. Noteer bij elke afbeelding van welk merk het is.


<p>A</p> 	<p>B</p> 	<p>C</p> 	<p>D</p> 	<p>E</p> 
<p>DIOR (Jadore parfumes)</p>	<p>Hermès</p>	<p>Rolls Royce (Phantom)</p>	<p>Balenciaga</p>	<p>Patek Philippe</p>
<p>F</p> 	<p>G</p> 	<p>H</p> 	<p>I</p> 	<p>J</p>  <p>Benoem niet alleen het merk maar ook het type.</p>
<p>Louis Vuitton</p>	<p>Cartier</p>	<p>Armand De Brignac</p>	<p>Swarovski</p>	<p>Apple FALCON SuperNova iPhone 6</p>







Vraag 63: Films

Identificeer de onderstaande producties/ films aan de hand van deze delen van foto's vol luxe en stijl.

<p>A</p>		<p>Bald, Fierce & Fabulous</p>
<p>B</p>		<p>Ocean's Eight</p>



<p>C</p>		<p>The Great Gatsby</p>
<p>D</p>		<p>Breakfast at Tiffany's</p>
<p>E</p>		<p>Crazy Rich Asians</p>



Vraag 64: Jurken


Jurken kunnen ware kunstwerken zijn, gemaakt van de meest uitzonderlijke materialen en met opmerkelijke verhalen erachter. Test je kennis over deze bijzondere creaties.

A	Wat is de naam van de duurste jurk ooit?	Nightingale of Kuala Lumpur
B	Waar verwijst de naam van de jurk naar?	Het gedicht "De roos en de Nachtegaal"
C	Hoeveel karaat aan diamanten heeft de jurk?	1.000 – 1.100

Wie denkt dat jurken alleen uit stof bestaan, heeft het mis: ontwerpers grijpen soms naar bijzonder avontuurlijke materialen.



D	Welk bijzonder natuurlijk materiaal gebruikte Vera Wang in een van haar duurste jurken in 2009? Benoem ook hoeveel ze hiervan heeft gebruikt.	Pauwveren, tussen de 2000/ 2009
E	Voor welk huwelijk wordt verondersteld dat de jurk gemaakt is, maar nooit is bevestigd omdat het huwelijk niet doorging?	Jennifer Lopez en Ben Affleck

Bron: [De 8 duurste Jurken aller Tijden! - Classylife](#)




Vraag 65: Glamour met een Twist

De glitter is verstoppt, de glamour verhuld... Welke nummers zitten in deze vervormde geluiden? Scan de QR-code en luister de geluidsfragmenten af.

<p>A</p>	<p>Scan me</p>  <p>In dit fragment zijn de stem en muziek van twee verschillende nummers samengevoegd. Welke twee artiesten en nummers hoor je?</p>	<p>Madonna – Material Girl Elton John - Rocketman</p>
<p>B</p>	<p>Scan me</p>  <p>Vervormd, maar herkenbaar: welke groep en welk nummer is dit?</p>	<p>Toppers – Shine</p>



EINDE CATEGORIE KLEINE KWIS DEELNEMERS



Vraag 66: Drinkjes

Bij een beetje Glitter en Glamour event vind je vaak ook verschillende drankjes. Beantwoord de volgende vragen.




A Er bestaat een drank die meer karaat bevat dan calorieën. Het gaat om een fles waarvan de dop bestaat uit drie diamanten, en waarvan de inhoud citroen bevat. Over welke drank hebben we het?

D'Amalfi Limoncello Supreme.

Beantwoord de volgende vragen over champagne.

B	Wat zijn de vergeten druivensoorten in champagne?	Arbane, Pinot Blanc (Blanc Vrai), Pinot Gris (Fromenteau), en Petit Meslier.
C	Tijdens de productie van champagne ontstaat een tweede gisting in de fles. Dit veroorzaakt de fijne belletjes die we zo lekker vinden én een behoorlijke druk. Welke gas is verantwoordelijk voor de belletjes en hoeveel atmosfeer kan de druk in de fles maximaal bereiken tijdens deze gisting?	Koolzuur / Koolstofdioxide, 6 bar




D	Tijdens de productie van champagne wordt de fles eerst afgesloten met een kroonkurk met een “bidule”. Hoeveel <i>echte kurken</i> krijgt een fles champagne in totaal voordat hij verkocht wordt?	Één. Een kroonkurk is een metalen dop en geen kurk. Wanneer champagnefles wordt verkocht komt de “echte” kurk.
E	Hoe heet de grootste champagne fles en hoeveel glazen champagne kan je daaruit schenken?	Melchisedech, 30 l, 240 glazen

Bron:

[Buy Melchisedech Champagne Bottle online - Millesima.com](#)

[Champagne - De méthode champenoise | Wijnkennis](#)

[Vier vergeten druivensoorten uit de Champagnestreek - House Du Champagne](#)




Vraag 67: Songfestival



In 2013 schitterde Nederland met “Glitter en Glamour” op het Junior Songfestival. Beantwoord de vragen over zowel het Junior Songfestival als het Eurovisiesongfestival.

A	Hoe vaak heeft het Junior Songfestival plaatsgevonden?	23x
B	Hoeveel inzendingen zijn er vanuit Nederland geweest voor het Songfestival?	65x deelgenomen en 66 inzendingen (in 1956 2 liedjes ingezonden)
C	Hoe heet de Nederlandse groep die begon bij het Junior Songfestival, maar ook heeft meegedaan aan het tv-programma “The Voice of Holland”?	(Lisa, Amy en Shelly) OGENE
D	Welke drie landen hebben in totaal de meeste punten behaald met al hun winnende inzendingen. Noteer per land ook het totaal aantal punten.	Zweden - 1798 Oekraïne - 1445 Ierland - 1077 (Vraag verkeerd gesteld, iets ingevuld is goed)
E	Welke artiest heeft voor Nederland het vaakst meegedaan en heeft het meest aantal punten gekregen? Noteer ook het aantal totaal punten.	Sandra Reemer, 213 punten Sandra en Andres -Als het om de liefde gaat, 106 punten Sandra Reemer – The party’s over – 56 punten Xandra – Colorado – 51 punten Corry Brokken heeft ook 3 keer meegedaan, maar heeft minder punten.


Bron: <https://www.songfestivalinfo.nl/nederlandse-inzendingen-songfestival/>






Vraag 68: Schoenen

Van high-heels tot sneakers: welke types of merken van schoenen zie je hier? Schrijf het type en merk van de schoenen. (Bij vraag E hoeft alleen het merk/ de naam van de schoen).

<p>A</p>		<p>Type: High heels Merk: Debbie Wingham</p>
<p>B</p>		<p>Type: Air Yeezy 2 Merk: Nike (Kanye West x Nike)</p>
<p>C</p>		<p>Type: Air Jordan 10 Merk: Nike (Solid Gold editie)</p>



D		Type: Jasper Merk: Louis Vuitton (Kanye West x Louis Vuitton)
E		Merk: Passion Diamond Shoes



Vraag 69: Evenement

We hebben net al een aantal vragen gehad over een rode loper. Nu gaan ze over een evenement. Beantwoord de vragen.


A In 2022 hebben onderstaande personen de hoofdprijs in dit evenement gewonnen. Om welk evenement gaat het en welke prijzen?




Sportgala 2022, Sportman en Sportvrouw van het jaar.



B	Waarom waren er in 2020 voor dit evenement geen verkiezingen?	Er waren geen sportman of sportvrouw van het jaar gekozen vanwege het uitstel van het sportgala door de COVID-19-pandemie.
C	Sinds wanneer wordt er onderscheid gemaakt in sexe bij de prijzen?	1959
D	Vanuit dit evenement, welke personen zijn het meest onderscheiden? Noteer de naam.	Sportvrouw van het jaar 6x gewonnen: <ul style="list-style-type: none"> - Sjoukje Dijkstra (kunstrijdster) - Leontien van Moorsel (wielrenster)
E	In 2025 werd deze belangrijke Nederlandse sportprijs voor het eerst gewonnen door een vrouw. Welke prijs was dat en wie won het?	Coach van het jaar – Sarina Wiegman


Bron: NOC NSF




Vraag 70: Glinsterende huizen

Niet alleen mensen steken zich in glitter en glamour: tijdens de kerstdagen worden ook onze huizen prachtig versierd, van subtiel tot knallend bont. In welke straten staan deze huizen?


<p>A</p>		<p>Fokkestraat</p>
<p>B</p>		<p>Heraldiek</p>
<p>C</p>		<p>Parksingel</p>



<p>D</p>		<p>Rozentuin</p>
<p>E</p>		<p>Porfierstraat</p>
<p>F</p>		<p>Koolzaadhof</p>



G		Koolzaadhof
H		Fokkestraat
I		Granietstraat
J		Jupiterweg



Categorie 8: Beroepen en Ambachten

Vraag 71: Zoek de vakmensen!

Van timmerman tot glazenier, van bakker tot smid – in deze woordzoeker staan allerlei beroepen en ambachten. Vind ze hieronder allemaal en maak van de overgebleven letters een zin in de balk onderaan de woordzoeker.


K	O	K	P	R	O	G	R	A	M	M	E	U	R
T	R	E	L	A	T	R	E	V	T	R	R	R	M
O	S	R	E	D	L	I	H	C	S	E	E	U	E
T	F	I	V	I	S	S	E	R	T	K	F	E	T
B	I	B	L	I	O	T	H	E	C	A	R	I	S
K	T	M	E	A	I	D	I	N	A	M	E	N	E
H	A	I	M	H	N	G	I	R	N	N	T	E	L
C	N	P	C	E	D	R	G	M	S	E	S	G	A
S	D	R	P	O	R	O	U	L	S	O	I	N	A
I	A	G	O	E	T	M	A	O	B	H	A	I	R
F	R	L	A	O	R	G	A	A	J	C	A	R	T
A	T	K	F	R	E	O	B	N	U	S	N	N	S
R	S	V	E	R	P	L	E	E	G	S	T	E	R
G	T	R	E	K	A	M	N	E	S	T	E	I	F

- ARCHITECT
- BIBLIOTHECARIS
- BOER
- FIETSENMAKER
- FOTOGRAAF
- GRAFISCH
- INGENIEUR
- JOURNALIST
- KAPPER
- KOK
- LOODGIETER
- METSELAAR
- NAAISTER
- PROGRAMMEUR
- SCHILDER
- SCHOENMAKER
- SLAGER
- SMID
- TANDARTS
- TIMMERMAN
- VERPLEEGSTER
- VERTALER
- VISSER

A Oplossing:

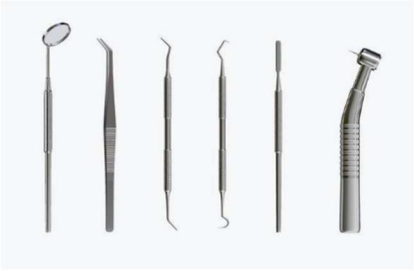




Oplossing


o e f e n i n g b a a r t k u n s t



Vraag 72: Instrumenten in het ziekenhuis



Hieronder zie je een aantal plaatjes van instrumenten die in het ziekenhuis worden gebruikt. Welke instrumenten worden gebruikt en door welke specialisten? (Beroep is voldoende)


A		Kaakchirurg
B		Longarts
C		Oogarts
D		Gynaecoloog en/of uroloog
E		KNO-arts







Vraag 73: Machines

Hieronder staan een aantal foto's van oude machines die vroeger bij een bepaald ambacht of beroep werden gebruikt. Schrijf naast de afbeelding om welke machines het gaat.

<p>A</p>		<p>Oude telefooncentrale</p>
<p>B</p>		<p>Deegmachine</p>




<p>C</p>		<p>Drukpers of Heidelbergpers</p>
<p>D</p>		<p>Boekenpers (alles met pers goed rekenen)</p>
<p>E</p>		<p>Schoenmakerswerkbank</p>



Vraag 74: Verdwenen beroepen of ambachten

De volgende beroepen/ ambachten komen haast niet meer voor. De letters van de ambachten zijn gehusseld. Noteer de ambachten/ beroepen.

A	rksutntspffiehercch	Turfschippersknecht
B	lgaerdknore	Kolendrager
C	llsakgepeszrogeer	Koperslagersgezel
D	etrkufreste	Turfsteker
E	cmhtesnoamiiorsintt	Stoomtreinmachinist
F	amkprelpen	Klepperman
G	sdoetrspamvoore	Stadsomroeper
H	rlnbehosciel	Schillenboer
I	nknrrsnteaetlaaa	Lantaarnaansteker
J	rewve	Wever



Vraag 75: TV-kwis

Quizmasters hebben een uniek vak: ze bedenken vragen, testen kennis en zorgen dat alles soepel verloopt. “De Datingshow” was een satirisch programma van Van Kooten en De Bie. Kijk goed naar de foto en beantwoord de volgende vragen.




A	Wat was de naam van de sketch die op de foto wordt afgebeeld?	Stumpers
B	Wat waren in de sketch de namen van de vrouwelijke deelnemers?	Angela – Monica - Gakje
C	Wie was de kandidaat in de kwis?	Bart (Wim de Bie)
D	Wie zei in deze aflevering over de kandidaat: “Hij stonk een uur in de wind”?	Monica
E	Wat was de (gemiste) hoofdprijs?	Reis naar Aruba

Bron: <https://youtu.be/SIQ2ZOryg7w?si=U14q6u7NujAlthjR>



EINDE CATEGORIE KLEINE KWIS DEELNEMERS




Vraag 76: Werkkampen



In de gemeente Dronten waren er in de jaren 60 verschillende werkkampen. Geef antwoord op de volgende vragen.


A	In welk dorp stond het grootste werkkamp in de gemeente Dronten? Omcirkel het juiste antwoord.	A) In Swifterbant B) In Dronten (goed) C) In Biddinghuizen
B	In welk jaar brandde de kantine van het werkkamp Ketelhaven af?	In 1961
C	Naast voedsel werden er nog twee soorten consumptiegoederen in de kantines verkocht. Welke zijn dat?	Wel rookwaar/ niet-alcoholische dranken
D	Welke extra voorziening voor ontspanning of vermaak hadden alle werkkampen in de gemeente Dronten, naast de standaard basisvoorzieningen?	Een toneelvoorziening of een podium in de kantine.
E	Voor hoeveel mannen was er plek in het kamp "Oud Dronten"?	300 mannen


Bron: Historisch Dronten boek 2 van jumbo



Vraag 77: Olympische Winterspelen

Vergeet ook de sporters niet in de beroepen! Een heel belangrijk evenement binnen de sporten zijn de olympische winterspelen. Dit jaar georganiseerd in Italië. Beantwoord de volgende vragen.

A	Hoeveel verschillende sporten waren er dit jaar bij de Olympische Winterspelen?	16
B	Welke sport was nieuw?	Ski mountaineering of 'skimo' of Ski-alpenisme
C	Hoeveel medaille onderdelen waren er?	116
D	Welke landen waren nieuwe landen dit jaar?	Benin, Guinee-Bissau en de Verenigde Arabische Emiraten.
E	Hoeveel Nederlandse sporters deden er mee aan de Olympische Winterspelen en aan welke sporten?	38 sporters. Langebaanschaatsen, shorttrack, bobsleeën, skeleton, kunstschaatsen en snowboarden.
F	Wie heeft/ hebben in totaal de meeste gouden medailles gewonnen in alle Olympische Winterspelen en hoeveel?	Johannes Hosflot Klaebo 11 gouden medailles
G	Welke Olympische sport wordt afgebeeld? 	Rodellen of Skeleton




<p>H</p>	<p>Bij welke sport zal je deze schoenen vinden?</p> 	<p>Curlen</p>
<p>I</p>	<p>Welke primeur op deze spelen moet zorgen voor verbondenheid?</p>	<p>Er zijn verschillende locaties en er zijn op twee locaties cauldrons (= olympische vlammen) ontstoken.</p>

<https://www.teamnl.org/>

De cijfers van de Winterspelen: records, nieuwelingen en een gulle miljardair

Niet alle sporters kunnen helaas leven van sport en moeten soms nog een extra baan erbij hebben. Streep de foute antwoorden hieronder door.



<p>J</p>	<p>A. Shannon- Ogbnai Abeda uit Eritrea werkt wel/niet als ingenieur naast de topsport.</p> <p>B. Teun boer studeert naast het shorttrack wel/niet aan de open universiteit</p> <p>C. Eileen Gu verdient wel/niet een geschatte inkomsten van 23 miljoen per jaar.</p> <p>D. Ellia Smeding uit Groot- Brittannië heeft wel/niet een eigen koffieonderneming</p> <p>E. Jutta Leerdam is naast dat ze veel op de schaatsbaan is ook nog wel/niet te vinden op een kantoor die artikelen verkoopt voor topsporters.</p> <p>Dikgedrukt goede antwoord</p>
-----------------	--




Vraag 78: Draaiorgel

De orgelman horen we helaas niet dagelijks meer, al is hij nog niet uit het straatbeeld verdwenen. Scan de QR-codes. Hier worden twee tunes van een tv-programma nagespeeld. Schrijf onder elk fragment om welk tv-programma het gaat.



A	B
<p style="text-align: center;">Scan me</p> 	<p style="text-align: center;">Scan me</p> 
<p>Het Klokhuis</p>	<p>Buurman en Buurman</p>



Bron: Youtube Robin de orgelman







Vraag 79: Jan van Haasteren


Tekenaar Jan van Haasteren is bekend om komische tekeningen. Op de puzzels die de laatste jaren van zijn tekeningen worden gemaakt, is Sinterklaas altijd in benarde posities te zien.

Wat is de naam van de puzzels waarop deze Sinten te zien zijn?

<p>A</p>		<p>Safari</p>
<p>B</p>		<p>De storm</p>




<p>C</p>		<p>The winter fair</p>
<p>D</p>		<p>Boerderijbezoek</p>
<p>E</p>		<p>Op zoek naar de schat OF De Antiekbeurs</p>



Vraag 80: Vloggers

Een heel leuk gebruik van de media is tegenwoordig het vloggen over producten, leuke filmpjes of gewoon over het dagelijks leven. De naam Enzo Knol zal je niet onbekend voorkomen, hij is één van de bekendste vloggers van Nederland. We zoeken de namen van 5 vloggers en over elke vlogger hebben we daarna nog een vraag.

A	Wat is de voornaam en achternaam van de sinds 2007 vloggende dame met het eigen YouTube kanaal Vlog gloss?	Mascha Feoktistova
B	Waar is zij in juni 2014 op vakantie geweest?	Jamaica
C	Van wie is de vlog: 10 beschamende acties van ouders?	Dylan Haegens
D	En wat staat er op nummer 9?	Ouders die meekijken
E	Welke vlogger heeft haar eigen stijl gids en is geboren in 1984	Serena Verbon
F	Welke bruine zoete vloeistof is het hoofdbestanddeel van haar "malse kippenboutjes"?	Dr. Pepper / Cola
G	Welke vlogger is uitgeroepen tijdens het Veed evenement 2015 als beste vrouwelijke YouTuber? Geef haar voor- en achternaam.	Teske de Schepper
H	Zij is natuurlijk ook bekend van haar top 40 hit. Maar met wie zong zij dit nummer?	David Choi
I	Tenslotte zijn wij op zoek naar een Brabantse vlogger. Hij kreeg vooral veel succes met zijn tips bij een populair NPO-programma. Wat is zijn voornaam en achternaam?	Jo Bonten
J	Waar komt deze Brabander vandaan?	Geldrop



Categorie 9: Topografie


Vraag 81: Buitenlandse Plaatsen



In Nederland liggen ook “buitenlandse” plaatsen. Zoek de antwoorden op de vragen

A	Hoog in Groningen straalt soms een ster boven...????	Bethlehem
B	Welk deel van de wereld is in het Engels gespeld een dorp in De Peel?	America
C	Ruslands oosten en een afgelegen buurschap in Drenthe kennen we als.....	Siberië
D	Welke Vlaamse stad aan de Demer ligt aan de Dedemsvaart??	Hasselt
E	Zowel in Curaçao als aan het Hollandse Diep vind je.....	Willemstad

Bron: ANWB Quiz




Vraag 82: Bier en Wijn


Benoem de landen waar onderstaande wijnen of bieren vandaan komen.



<p>A</p>		<p>Bulgarije</p>
<p>B</p>		<p>Duitsland</p>
<p>C</p>		<p>Nederland</p>




<p>D</p>		<p>Frankrijk</p>
<p>E</p>		<p>Italië</p>
<p>F</p>		<p>Australië / Tahiti / Frans Polynesië</p>



G		Nederland
H		Turkije
I		Ierland
J		België

Bronvermelding: Vraag 1,2,4 en 5 World Atlas of wine Limited 1971, Vraag 3 Koelkast op de Pastorale 25 te Dronten, Vraag 6, 7, 8, 9 en 10 Bier uit de hele wereld 1993




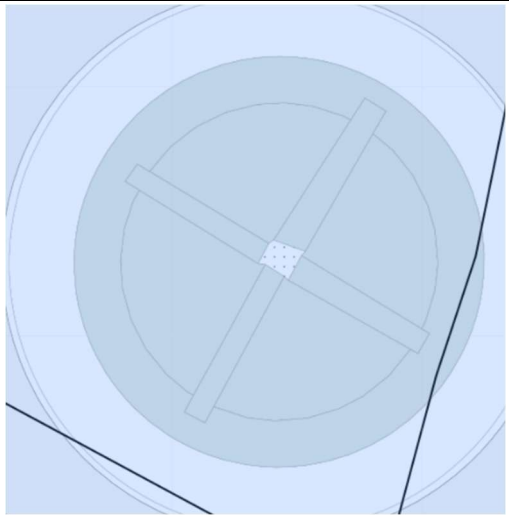
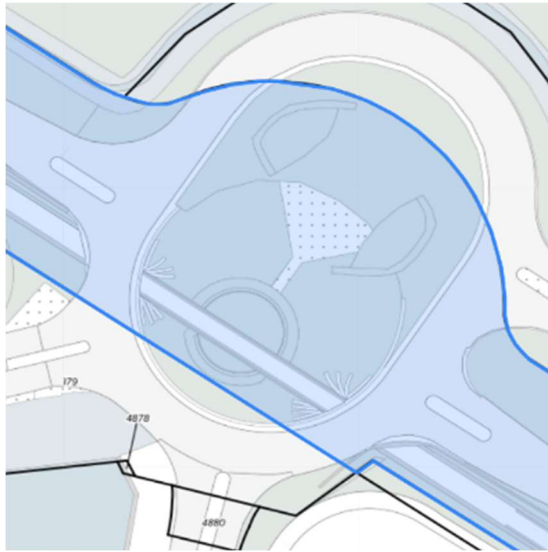
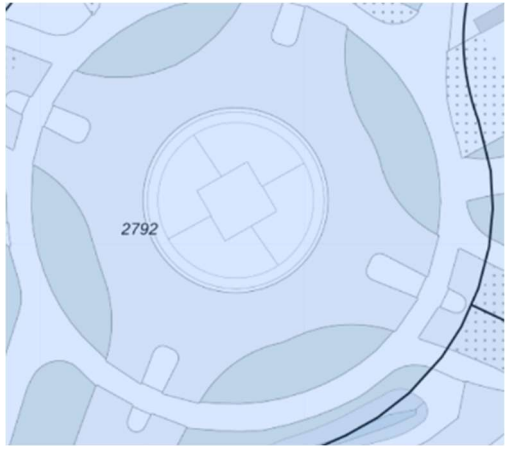
Vraag 83: Rotondes

In de gemeente Dronten zijn rotondes te herkennen aan het beplantingsplan. Welke wegen worden verbonden met de onderstaande rotondes? Vermeld de plaatsnaam en de wegen.




<p>A</p>		<p>A Swifterbant Dronerringweg /de Kolk</p>
<p>B</p>		<p>B Biddinghuizen Baan / Swifterweg</p>



<p>C</p>		<p>C. Dronten Rietweg / Dronterweg</p>
<p>D</p>		<p>D Dronten Overijsselseweg / Dronterringweg / Sassenpoort / N307 / Bij de Poort</p>
<p>E</p>		<p>E Biddinghuizen Dreef / Oldebroekerweg</p>

Bron: kadaster.nl




Vraag 84: Fenix



Migratie is en blijft een actueel onderwerp. Nederland heeft zelfs een kunstmuseum over migratie, dat is Fenix in Rotterdam. Beantwoord de volgende vragen.

A	Wat waren de functie en naam van het gebouw voordat het museum erin werd gevestigd?	De overslagloods San Francisco of Opslag- en overslagloods Fenixloods II
B	Wat is het zwaarste en grootste object in de museumcollectie?	Een volledig fragment van de Berlijnse Muur
C	Fenix bezit een schilderij van Willem de Kooning. Wie was de vorige eigenaar?	Norman Lear
D	Wie presenteerde op 4 oktober zijn autobiografie op Plein in Fenix in Rotterdam?	Ahmed Aboutaleb
E	Hoeveel bagagekluisjes zijn er in het museum?	468



Bron: Bijlage van de Volkskrant




Vraag 83: Tempels

Twee ruïnes uit het oude Griekenland. De bovenste is van het Erechtheion. De onderste foto is de tempel van Poseidon. Aan jullie de taak om op de foto te tekenen hoe de tempels er uitzagen voor de verwoesting. Gebruik een zwart potlood of zwarte pen.

A




B



Bron: Athen Die Monumente einst und jetzt





EINDE CATEGORIE KLEINE KWIS DEELNEMERS

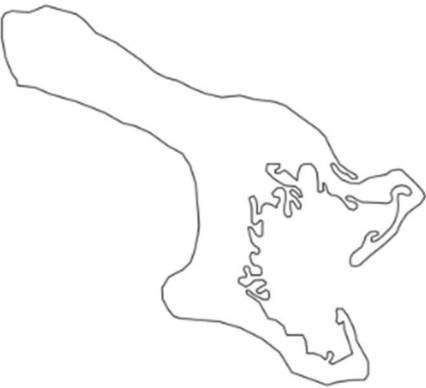




Vraag 86: Silhouetten


Aan de silhouetten kun je herkennen om welk land het gaat. Zet achter het silhouet het juiste land.

A		Australië
B		Brunei of Brunei Darassalam



C		Kiribati
D		Luxemburg
E		Belize

Bron: Google, foto's zijn op zijn kop.







Vraag 87: Kerken

Er zijn vroeger prachtige kerken gebouwd met indrukwekkende toegangen. Welke toegang hoort bij welke kerk? Noteer de juiste naam van de kerk in de oorspronkelijke taal.



<p>A</p>		<p>Cathedrale Notre Dame (Chartres)</p>
<p>B</p>		<p>The Collegiate Church of St. Peter (Westminster Abbey is dus niet goed)</p>








<p>C</p>		<p>Cathedrale Notre Dame de Paris</p>
<p>D</p>		<p>Basilica Cattedrale Patriarcale di San Marco</p>
<p>E</p>		<p>The Cathedral and Metropolitan Church of Christ at Canterbury</p>


Bron: Op reis, uitgave van de ANWB



Vraag 88: Geluidsfragment


Scan de QR-codes en beluister de volksliederen. Van welke gebieden/ landen worden hier de volksliederen hier ten gehore gebracht?


A	<p>Scan me</p> 	Flevoland
B	<p>Scan me</p> 	Zeeland
C	<p>Scan me</p> 	Gelderland
D	<p>Scan me</p> 	Suriname
E	<p>Scan me</p> 	Curaçao



Vraag 89: Woestijnen

Ontdek een van de meest extreme en uitgestrekte gebieden op aarde. Beantwoord de volgende vragen over woestijnen.




A	Welke woestijn bestaat uit 14 miljoen vierkante kilometer?	Antarctica/ Antarctische poolwoestijn
B	 <p>Dit plantje kan je in de woestijn van vraag A vinden. Wat is de naam van dit plantje?</p>	Antarctische smele/ Antarctisch haargras / De Schampsia Antarctica

Bron:






<https://nl.scienceaq.com/Geologie/1007325895.html#:~:text=%2A%20grootste%20woestijn%3A%20Het%20Antarctica%20is%20de%20grootste,miljoen%20vierkante%20kilometer%20%285%2C4%20miljoen%20vierkante%20mijl%29%20bestrijkt.>


<https://sigmaearth.com/nl/waarom-is-de-bloei-van-Antarctische-bloemen-een-slecht-teken/>



Vraag 90: Mijnbouw


Overal in de wereld wordt mijnbouw gepleegd. Welke delfstoffen worden op de foto's gedolven en in welke landen zijn deze mijnen?

A		Diamantmijn van Argyle-Australië
B		Uraniummijn van Arlit-Niger
C		Kopermijn van Chuquicanara-Chili
D		Bruinkoolmijn van Heuersdorpf-Duitsland
E		Goudmijn bij Pocone-Brazlie



Categorie 10: Voor de Kinderen

Deze categorie is vanmiddag al vrijgegeven. Voeg hier deze pagina's in de juiste volgorde in. Verwijder deze lege pagina.




Categorie 10: Voor de Kinderen

Vraag 91: Spontane vragen

Een hype van 2025 waren de Italiaanse brainrots. Hieronder staan vijf van deze brainrots, noteer de juiste namen. Let goed op de spelling!

A		
B		
C		
D		
E		



Vraag 92: Doe-opdracht Heel Gemeente Dronten Bakt

We gaan een cake bakken maar niet een gewone cake maar een vanillecake met een 'geheime ingrediënt' en dat ingrediënt mag je zelf bepalen.

We willen dat jullie hiervan een filmpje maken. In het filmpje willen we zien hoe jullie de cake maken. Geef ook aan wat je precies doet en welk "geheime ingrediënt" jullie hebben gekozen. Het filmpje mag maximaal 1 minuut duren.

Hier is het basisrecept van een vanillecake:

Het basisrecept vanillecake

Porties: 12 plakjes voor een cake bakvorm 25 cm

Ingrediënten

200 gram ongezoeten roomboter

200 gram fijne kristalsuiker

8 gram vanillesuiker

4 eieren

200 gram zelfrijzend bakmeel

Snuf zout

'het geheime ingrediënt '

Bakkers klaar, Bakken maar!!!




Inleveren

Zorg dat het filmpje vóór 20:00 uur via de captain wordt ingeleverd in jullie Google Drive-map, met het teamnummer en de opdracht naam erbij.

CHECK JEZELF: filmpje geplaatst in Google Drive?

JA / NEE



Vraag 94: Glitter en Glamour



Wij zijn vanuit de kwis helemaal gek op Glitter en Glamour! Doe een glitter en glamour outfit aan en show die op de catwalk. Maak hiervan een filmpje van maximaal 1 minuut.


Hoe meer Glimmer en Glamour, hoeveelheid mensen hoe meer punten je kan krijgen!

Inleveren

Zorg dat het filmpje vóór 20:00 uur via de captain wordt ingeleverd in jullie Google Drive-map, met het teamnummer en de opdracht naam erbij.






CHECK JEZELF: filmpje geplaatst in Google Drive?

JA / NEE




Vraag 95: Te Land, ter Zee en in de Lucht

Scan de verschillende QR-codes en luister naar de geluidsfragmenten. Noteer de verschillende voertuigen.

A	B	C	D	E
				
Auto / raceauto	Helikopter	Boot	Vliegtuig	Fiets / fietsbel







EINDE CATEGORIE KLEINE KWIS DEELNEMERS




Vraag 96: Geschiedenis

Vroeger moesten mensen andere dingen gebruiken dan nu. Beschrijf achter de plaatjes waar het voor werd gebruikt.

A		<p>Berichten verzenden, communicatie</p> <p>Morsesleutel of seinsleutel</p>
B		<p>Wassen/wasbord</p>
C		<p>Koffiebonen malen</p>





<p>D</p>		<p>Boter maken of karnen</p>
<p>E</p>		<p>Muziek afspelen Grammafoonplaat afdraaien</p>



Vraag 97: Rondje Dorpen




In de gemeente Dronten kom je veel logo's tegen. Noteer waar de logo's van zijn.


A		 <p>Flevosprong openbare basisschool</p> <p>Basisschool Flevosprong</p>
B		 <p>Sportvereniging Swift'64</p>
C		 <p>Optisport brengt je in beweging</p> <p>Optisport</p>
D		 <p>Beweegbos Biddinghuizen</p>
E		 <p>gemeente dronten</p> <p>Gemeente Dronten</p>



Vraag 98: Beroepen en Ambachten

Om welke oude ambachten gaat het hier? Noteer de ambachten naast de plaatjes.


A		Pottenbakker
B		Smid of Goudsmid
C		Glasblazer



D		Weger/ Handelaar/Koopman
E		Mandenmaker

Om welke beroepen gaat het hier? Noteer de beroepen onder de plaatjes.

F	G	H	I	J
				
Dokter	Brandweer	Piloot / Steward / Stewardess	Advocaat / rechter	Bakker / Slager



Vraag 99: Topografie

Maak je eigen landkaart!

Wees creatief en ga aan de slag om je eigen land-, provincie- of wereldkaart te maken. Je mag zelf kiezen wat je gebruikt! Je landkaart moet wel het volgende bevatten!

- 5 dorpen of steden
- Een rivier, meer, zee of een berg
- Een vlag en naam van je land / provincie/ wereld.

Maak van het eindresultaat maximaal 3 foto's zodat wij je landkaart van alle kanten goed kunnen bekijken.



Inleveren

Zorg dat de foto vóór 20:00 uur via de captain wordt ingeleverd in jullie Google Drive-map, met het teamnummer en opdrachtnummer erbij.

CHECK JEZELF: foto geplaatst in Google Drive?

JA / NEE

Vraag 100: Voor de Kinderen

Dit jaar heeft Kwikkie een kleine erbij gekregen. Beantwoord de vragen hieronder over jonge dieren.

A	Hoe heet het jong van een kikker?	Kikkervisje
B	Hoe heet het jong van een kangoeroe?	Joey
C	Hoe heet het jong van een schaap?	Lammetje
D	Waar of niet waar: een jong van een egel heet een 'stekeltje'?	Nietwaar, egeljong
E	Een jong van een haas heet anders dan dat van een konijn. Hoe heet het jong van een haas?	Haasje / Pulstering / Leveret / Lepesaaltje

